

## 親子でチャレンジ①

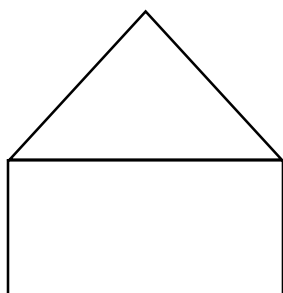
保護者の皆様には、感染症拡大防止への対応につきまして御理解と御協力をいただきありがとうございます。子どもたちも保護者の皆様も大変な苦勞をされながら毎日を過ごしていらっしゃることと思います。

そこで、砧南小学校では「親子でチャレンジ」のページを作成しました。ほんの少しでも親子で一緒に考えて楽しめる時間を過ごしていただければと思います。

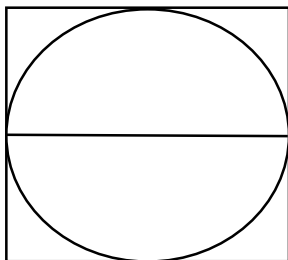
### 今日の問題 【一筆書き】

第一問 次の図形を一筆書きしてみましょう。

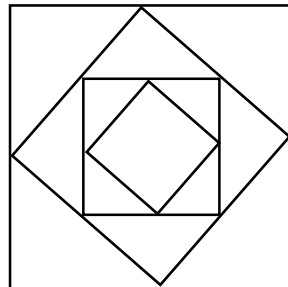
①



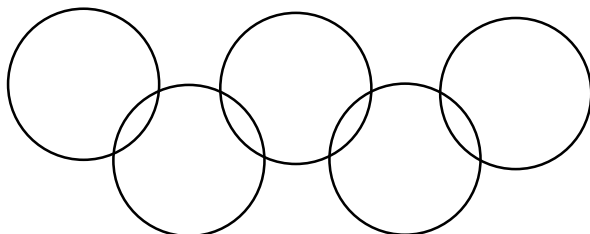
②




③



④



第二問 一筆書きですべての点を通るように直線をかきます。最も曲がる回数が少なくなるにはどう書いたらよいでしょうか。



解答は、次回の問題提出時に公開します。