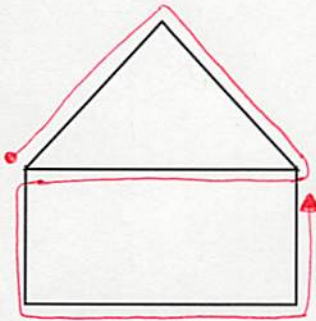


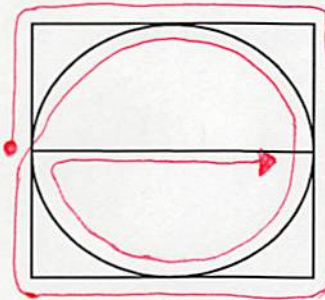
【一筆書き】 解答例

第一問 次の図形を一筆書きしてみましょう。

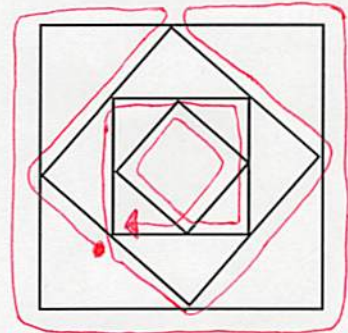
①




②



③



④



第二問 一筆書きですべての点を通るように直線をかきます。最も曲がる回数が少なくなるにはどう書いたらよいでしょうか。

