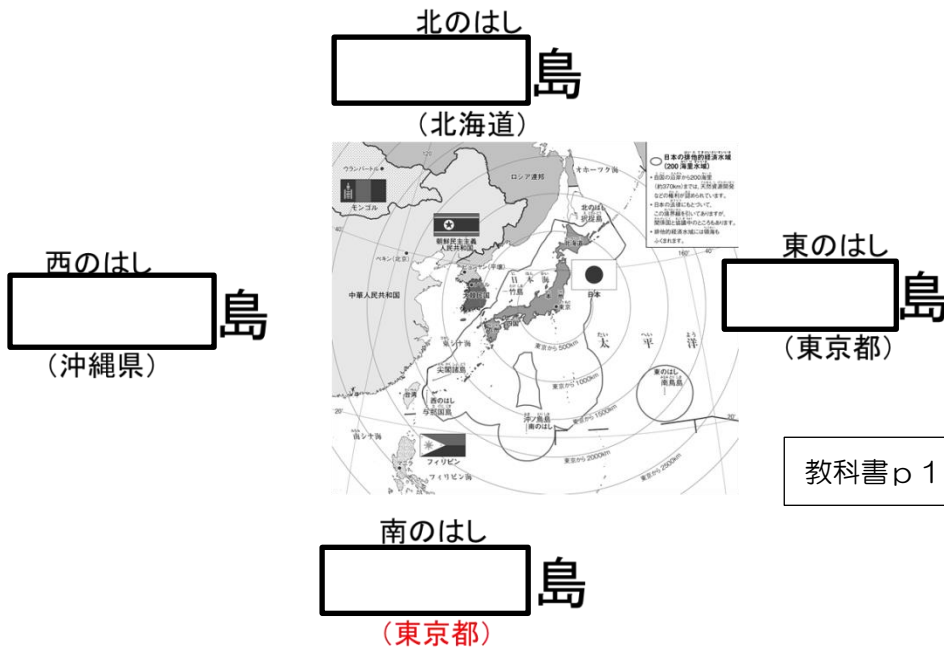


日本の国土にはどんな特色があるのだろう

日本の端ってどこ？

年 組 名前



教科書p12, 13から探してかこう！

☆教科書p12, 13をよく読んで答えよう。

①口に当てはまる海や国の名前を入れよう。

<日本の主な島々>

・北海道 本州 四国 九州

<日本のまわりの海>あと3つ

・日本海

<日本のまわりの国々>あと3つ

・大韓民国

日本の国土は、6800以上もの、

多くの島から成り立っている！

※九州には2160島もの島があるんだよ！

②合っている方に○をつけよう。

・日本は（ 北 ・ 南 ）半球に位置している。

・日本の海岸線の長さは、約（ 3.5万 ・ 1.8万 ）kmで、世界で（3番目 ・ 6番目）に長い。

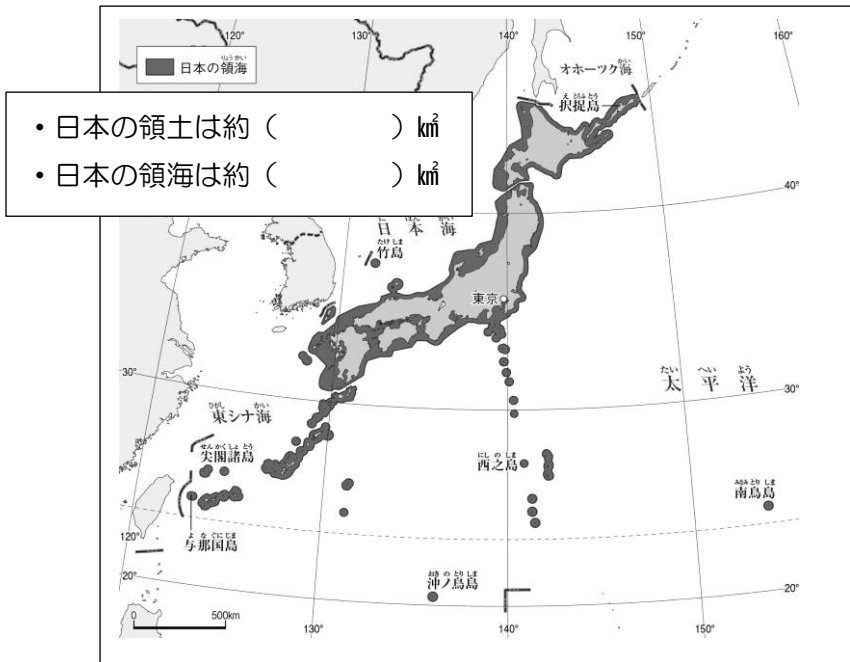
・多くの島々が（ 南北 ・ 東西 ）に（弓のように ・ 矢のように）連なっている。

<教科書やプリントから気付いた日本の国土の特色を書こう。>

日本の領土問題

年 組 名前



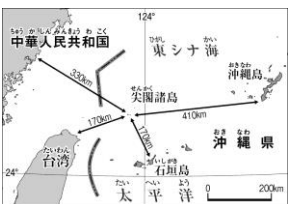
☆p14, 15を見て、() に当てはまる言葉を入れよう



- ① その国の持つ陸地と、陸地に囲まれた湖や川を合わせたものを () という。
- ② 海岸から 12 海里 (約 22 km) までの海を、 () という。
- ③ 領土と領海の上空を、 () という。

はいたてきけいざいすいいき
 ☆排他的経済水域…自分の国の沿岸から 200 海里 (約 370 km) まで、天然資源開発の権利が認められているはんい。
 ※p12, 13にのっているよ!

☆P14, 15 を読んで答えよう。

☆領土をめぐる問題のある島の名前を書こう！	☆それぞれの領土が抱える問題を書こう！
 <p>北方領土の残り 3 島の名前を 書こう！</p>	<p>えとろふとう</p> <ul style="list-style-type: none"> ・ 択捉島 ・ ・ ・
	<ul style="list-style-type: none"> ・
	<ul style="list-style-type: none"> ・

☆この島々は日本固有の領土である！

白地図に日本の国土の特色をかきこもう！

年 組 名前

<例>

- ・海洋の名前
- ・国の名前
- ・領土問題
- ・島の数

など

4年生で行った、

パンフレット作りを参考にやってみよう！

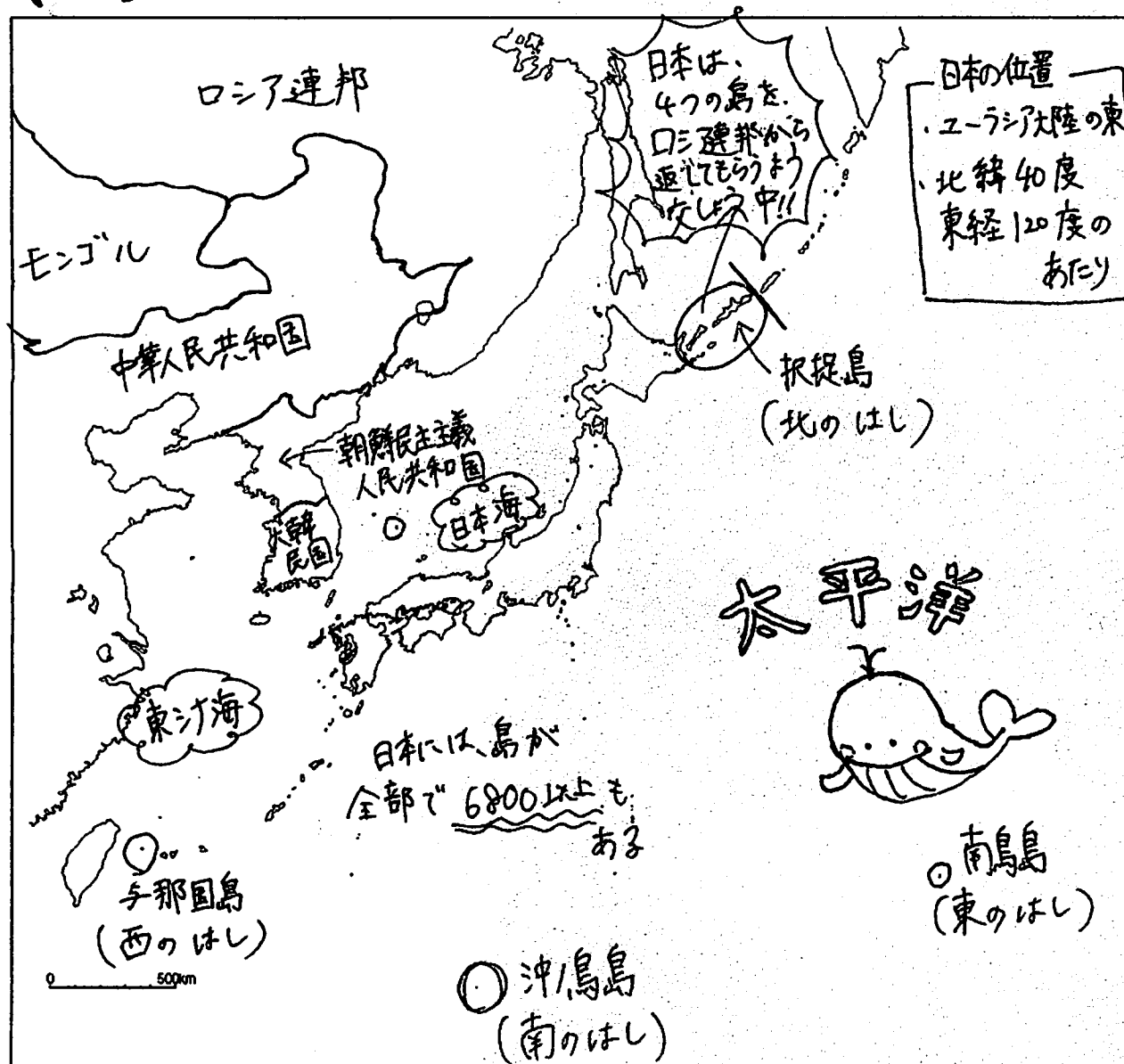
<ふりかえり（わかったこと、気付いたことなど）>



白地図に日本の国土の特色をかきこもう！

(例)

5年3組 名前 小谷秀行



<例>

- ・海洋の名前
- ・国の名前
- ・領土問題
- ・島の数

色もぬって
いいよ!!

など 絵をかくのも
OK!!

4年生で行った、

パンフレット作りを参考にやってみよう!

<ふりかえり (わかったこと、気付いたことなど)>
