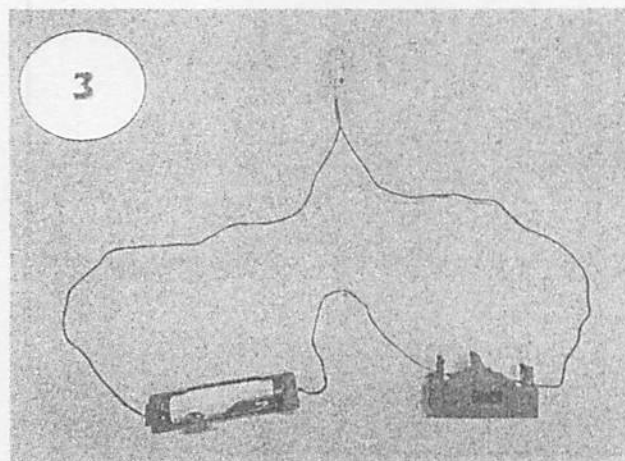

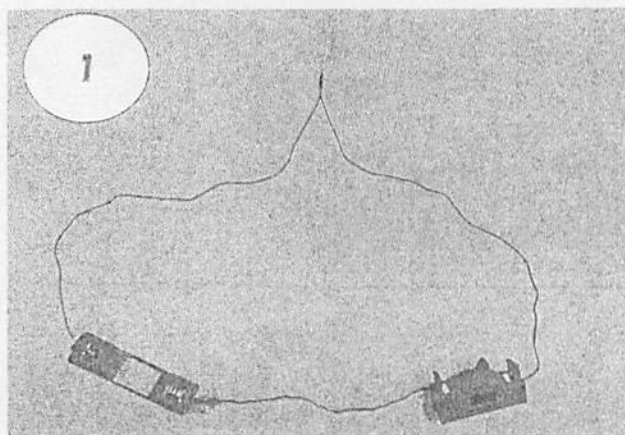


電気のはたらき

組 番 名前 ()

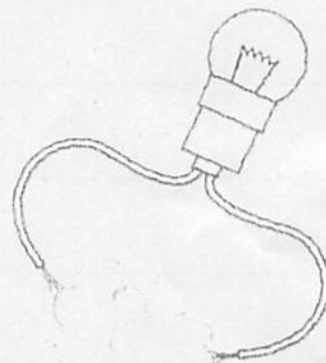
○今まで習ったことを思い出しながら次の問題に取り組みましょう。
答えのかくにんは、学校でするので自分の考えを分かりやすく書いておきましょう。

- ① 明かりがつく回路を次の写真の中からどれかえらびましょう。そして、えらんだ理由も書きましょう。




えらんだ写真 ()

えらんだ理由



- ② この人は電池ボックスにあぶないつなぎ方をしようとしています。
このつなぎ方の名前とどうしてあぶないのか理由を考えて書きましょう。



このつなぎ方の名前 () 回路

あぶない理由 _____

○これから学習していく「電気のはたらき」に向けて、電気について知っていること、調べてみたいこと、ふしぎに思っていることを書きましょう。
