


## 1日の気温と天気（ 晴れの日 ）

組 番 名前 ( )

- ① 晴れの日、午前9時から午後3時までの気温を温度計ではかりました。その写真は、何度を示しているのか読み取りましょう。また、表にまとめましょう。



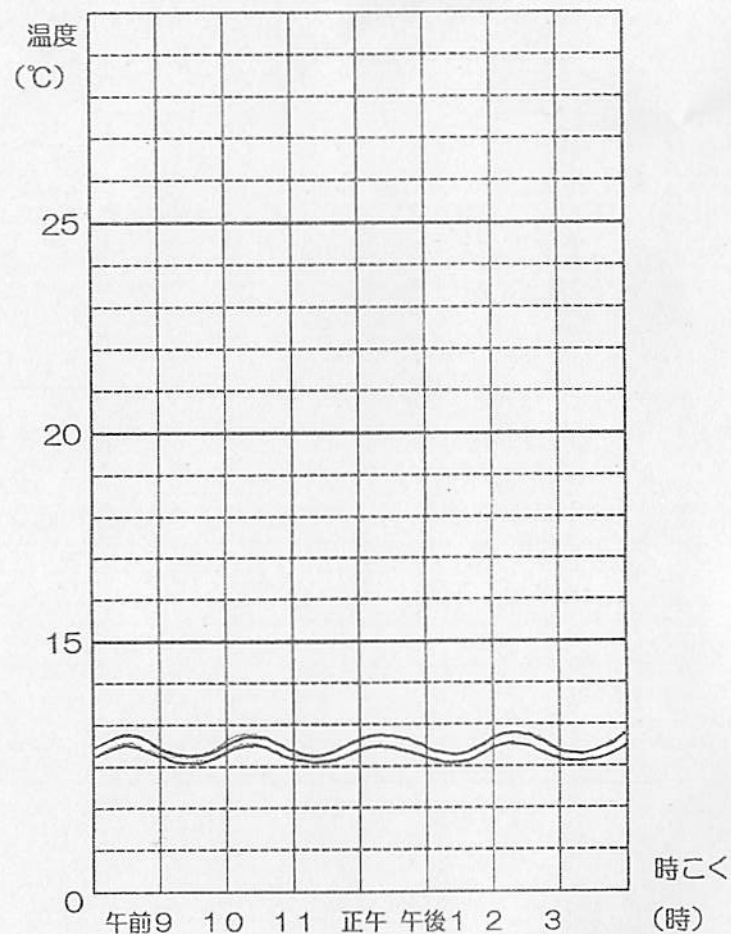
午前9時      10時      11時      正午      午後1時      2時      3時

|  |  |  |  |  |  |  |
|--|--|--|--|--|--|--|
|  |  |  |  |  |  |  |
|--|--|--|--|--|--|--|


| 時こく     | 気 温 |
|---------|-----|
| 午前 9 時  | ℃   |
| 午前 10 時 | ℃   |
| 午前 11 時 | ℃   |
| 正 午     | ℃   |
| 午後 1 時  | ℃   |
| 午後 2 時  | ℃   |
| 午後 3 時  | ℃   |

- ② 表にまとめた気温を折れ線グラフに表しましょう。

### 1日の気温と天気の変化




- ③ 晴れの日 の 1 日の 気温 を まとめて、分かったこと や 気付いたこと、感想 など を 書き ましょう。



# 1日の気温と天気（ 雨の日 ）

組 番 名前（ ）

- ① 雨の日の午前9時から午後3時までの気温を温度計ではかりました。  
その写真は何度を表しているのか読み取りましょう。また、表にまとめま  
しょう。

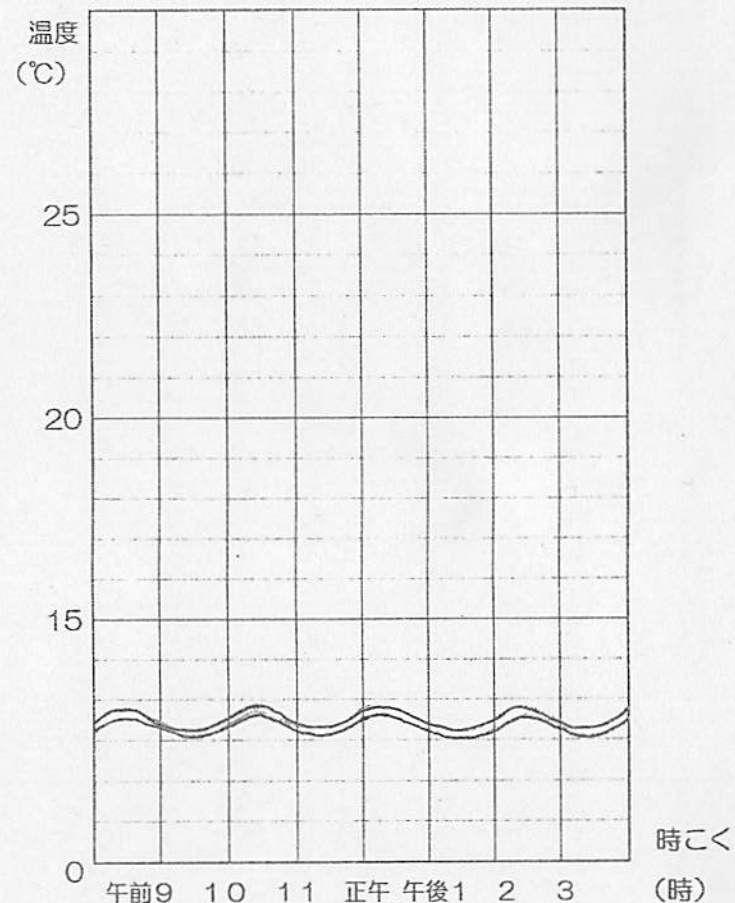


| 午前9時 | 10時 | 11時 | 正午 | 午後1時 | 2時 | 3時 |
|------|-----|-----|----|------|----|----|
|      |     |     |    |      |    |    |

| 時 刻     | 気 温 |
|---------|-----|
| 午前 9 時  | ℃   |
| 午前 10 時 | ℃   |
| 午前 11 時 | ℃   |
| 正 午     | ℃   |
| 午後 1 時  | ℃   |
| 午後 2 時  | ℃   |
| 午後 3 時  | ℃   |

- ② 表にまとめた気温を折れ線グラフに表しましょう。

1日の気温と天気の変化



- ③ 雨の日の1日の気温をまとめて、分かったことや気付いたこと、感想などを書きましょう。

-----

-----