

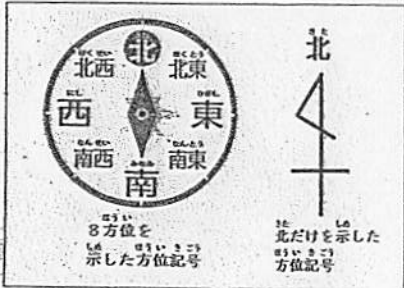
わたしたちのまち

学校のまわりの様子(れんしゅう)


年 組 名前( )

1、 地図の空いている口に方位を書きこもう。

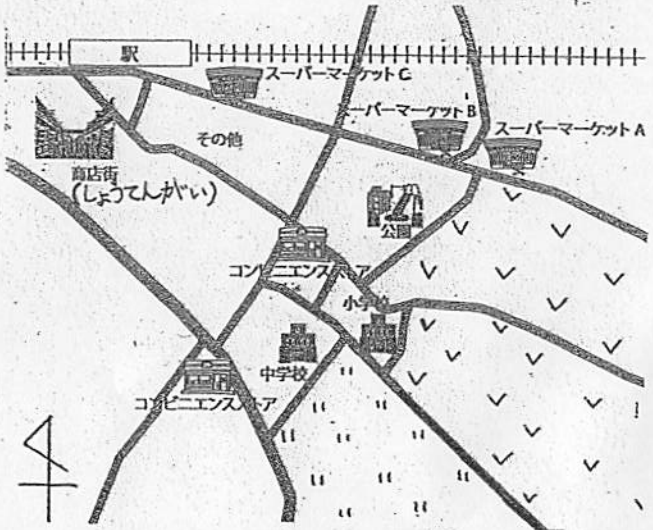
方位じしんと地図の方位



地図から方位を読み取ろう。



2、 下の地図を見て、①～③の( )に当てはまる方位を書きましょう。



① 中学校から見て、コンビニエンスストアは( )がわにあります。

② 小学校の( )がわには、はたけが広がっています。

③ てつ道は、( )がわから( )がわに続いています。

3、 次の口の中に地図記号をかきましょう。

区(市)役所	消防(しょうぼう)しょ	神社	工場
<input type="text"/>	<input type="text"/>	<input type="text"/>	<input type="text"/>
ゆうびん局	田	けいさつしょ	学校
<input type="text"/>	<input type="text"/>	<input type="text"/>	<input type="text"/>
はたけ	びょういん	かじゅ園	寺
<input type="text"/>	<input type="text"/>	<input type="text"/>	<input type="text"/>

4、 碓(すね)南小学校のまわりの4つのまちの名前を書きましょう。

<input type="text"/>	<input type="text"/>
<input type="text"/>	<input type="text"/>