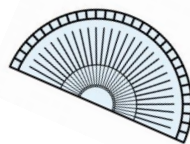


おうち de 算数




全学年用

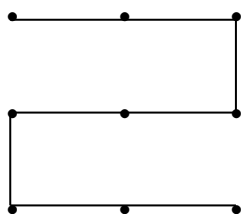
N0.6

～何本の直線を通れるかな？～

問題 9つの点をすべて通るには、直線が何本必要でしょうか？



たとえば、こんな風に・・・



1、2、3、4・・・5！
5本でできたどん！

でも、実は、直線4本ですべての点を通ることができます。どうすればよいでしょう？

★ヒント



人生、時には常識にとらわれず、少くくはみ出すことも大事どん！

