

日本地図 都道府県①（名前確認用）

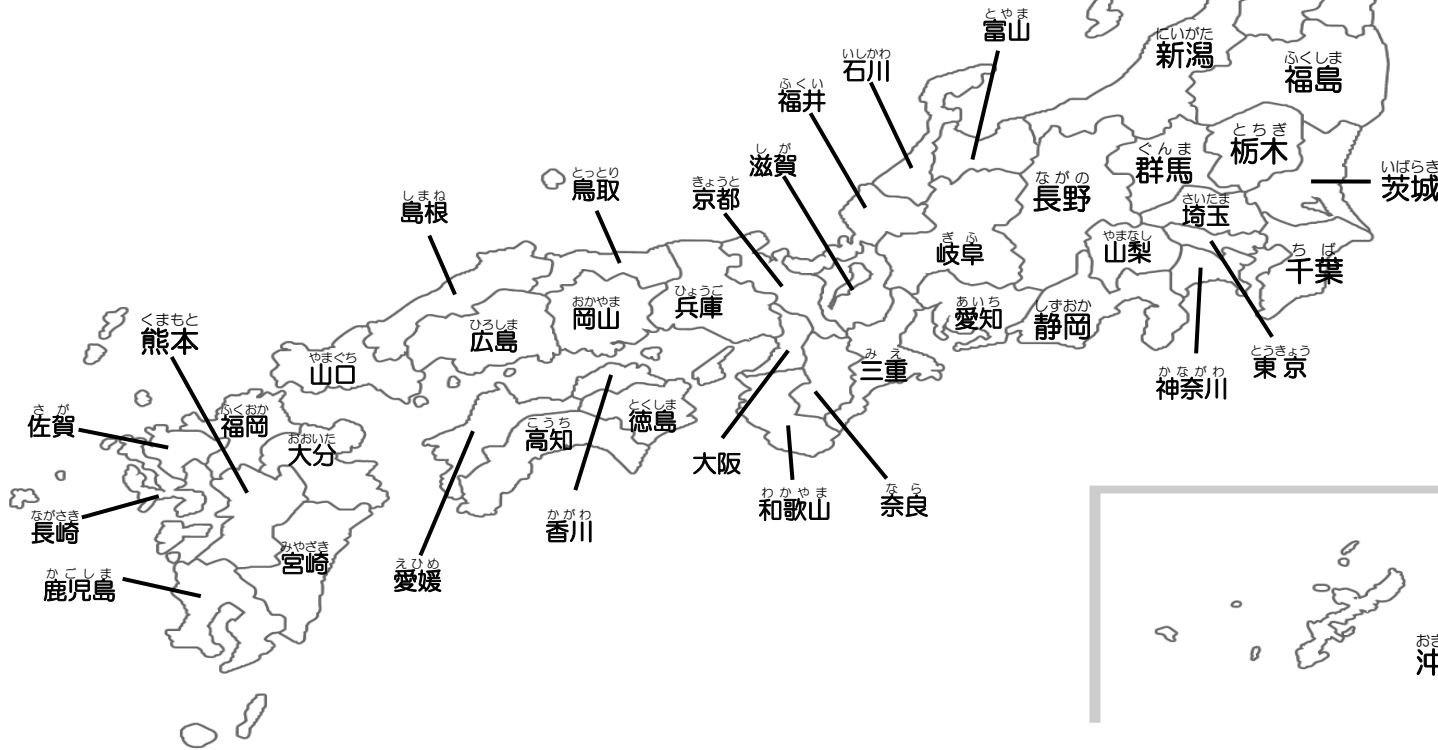
名前



とどうふけん
都道府県はぜんぶで47あります。

「都」が東京都、
「道」が北海道、
「府」が大阪府と京都府、
「県」は43あります。

みんなはぜんぶおぼえられるかな？



地図に色をぬりましょう

※都道府県に色えんぴつで色をぬりましょう。

赤色…自分の住んでいる場所

青色…親せきが住んでいる場所
（おじいちゃん、おばあちゃん、いとこなど）

緑色…旅行やお出かけでいったことがある場所

おきなわ
沖縄

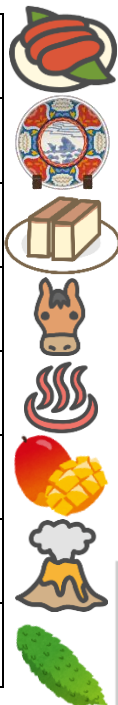
日本地図 都道府県②（答え＆なぞり用） 名前

それぞれの都道府県には、有名な場所や食べ物などがいろいろあります。都道府県の有名なもののイラストをつけたので、おぼえるためのヒントにしてください。これ以外にもまだまだ有名なものはたくさんあります。ぜひ自分でも調べてみてくださいね。

たとえば、鹿児島県のイラストは何かわかりますか？先生は鹿児島にいったときに、それが毎日〇〇〇〇していて、とてもビックリしました。

【九州・沖縄地方】

40	福岡県
41	佐賀県
42	長崎県
43	熊本県
44	大分県
45	宮崎県
46	鹿児島県
47	沖縄県



【中国地方】

31	鳥取県
32	島根県
33	岡山県
34	広島県
35	山口県




【近畿地方】

24	三重県
25	滋賀県
26	京都府
27	大阪府
28	兵庫県
29	奈良県
30	和歌山県



【中部地方】

15	新潟県
16	富山県
17	石川県
18	福井県
19	山梨県
20	長野県
21	岐阜県
22	静岡県
23	愛知県



【北海道・東北地方】

1	北海道
2	青森県
3	岩手県
4	宮城県
5	秋田県
6	山形県
7	福島県



【関東地方】

8	茨城県
9	栃木県
10	群馬県
11	埼玉県
12	千葉県
13	東京都
14	神奈川県



【四国地方】

36	徳島県
37	香川県
38	愛媛県
39	高知県



※都道府県の名前をなぞって、漢字の勉強もしてみましょう。

日本地図 都道府県③ (テスト)

名前 _____



さあ、みなさんの実力
だめしです！答えは
「ひらがな」でも「漢
字」でも、どちらで書
いてもよいです。

イラストは何かわ
かりましたか？そ
の都道府県の有名
なものとセットで
おぼえと、おぼ
えやすいですよ。
少しずつおぼえて
いきましょうね！


【中国地方】

31	
32	
33	
34	
35	



【近畿地方】

24	
25	
26	
27	
28	
29	
30	



【中部地方】

15	
16	
17	
18	
19	
20	
21	
22	
23	



【北海道・東北地方】

1	
2	
3	
4	
5	
6	
7	



【関東地方】

8	
9	
10	
11	
12	
13	
14	



【四国地方】

36	
37	
38	
39	



【九州・沖縄地方】

40	
41	
42	
43	
44	
45	
46	
47	

