

## 1 わたしたちの国土①-1

## 1 世界の中の国土

課題 地球儀や地図、大陸や海洋について調べる。



・・・地球の形をそのまま小さくした<sup>もけい</sup>模型。  
陸地や海の形や大きさが正しい。



・・・地球の一部または全部を平らに表した図。

## 【地球儀の見方】

・たてと横に引いた線がある。



(たての線)

・イギリスの旧グリニッジ天文台が  
0°。東西に180°。



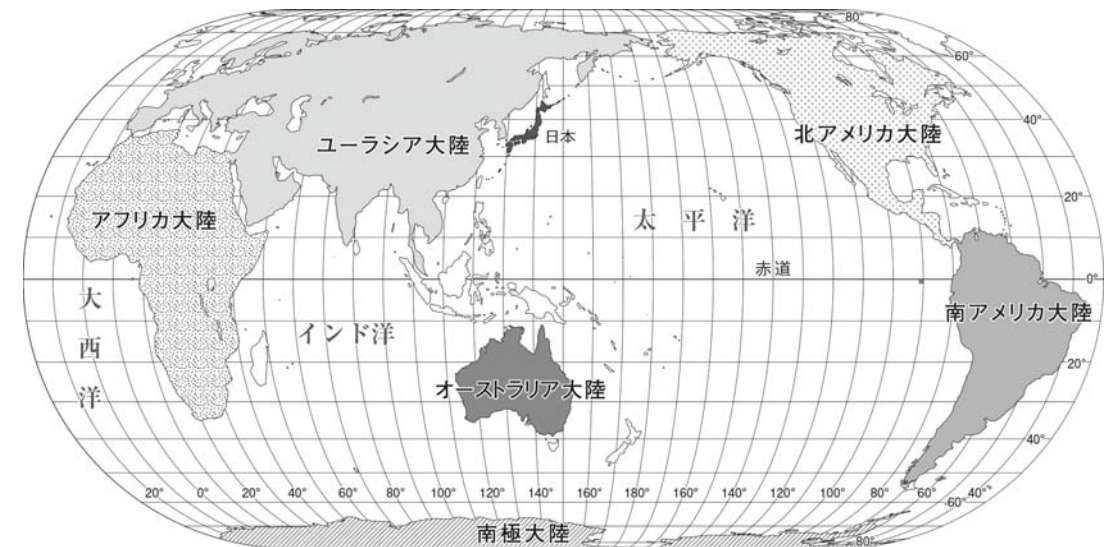
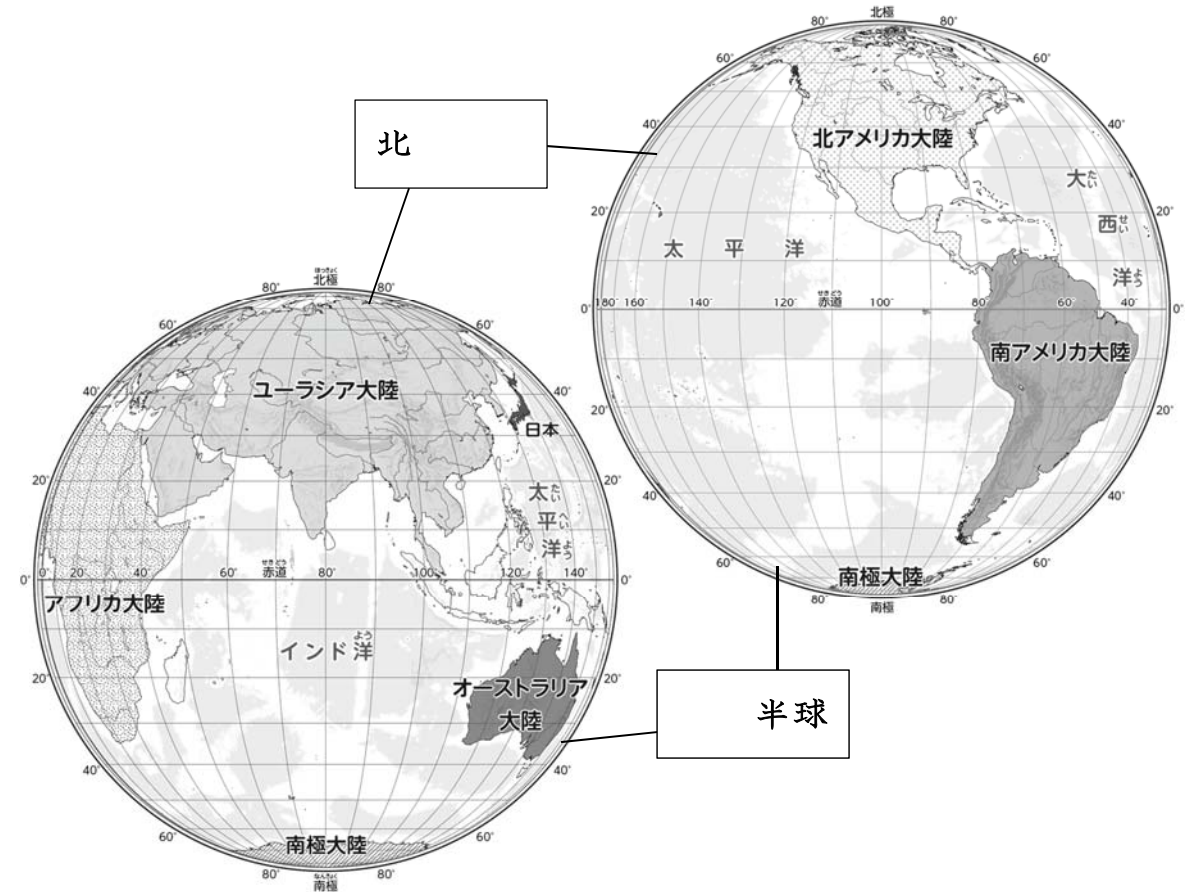
(横の線)

・\_\_\_\_\_が0°。南北に90°。



日本は、北緯 20° から北緯 45° の間、東経 123° から東経 153° の間にある。

東京は、\_\_\_\_\_ 36°、\_\_\_\_\_ 140° にある。



世界には、\_\_\_\_\_つの大陸と\_\_\_\_\_つの海洋がある。

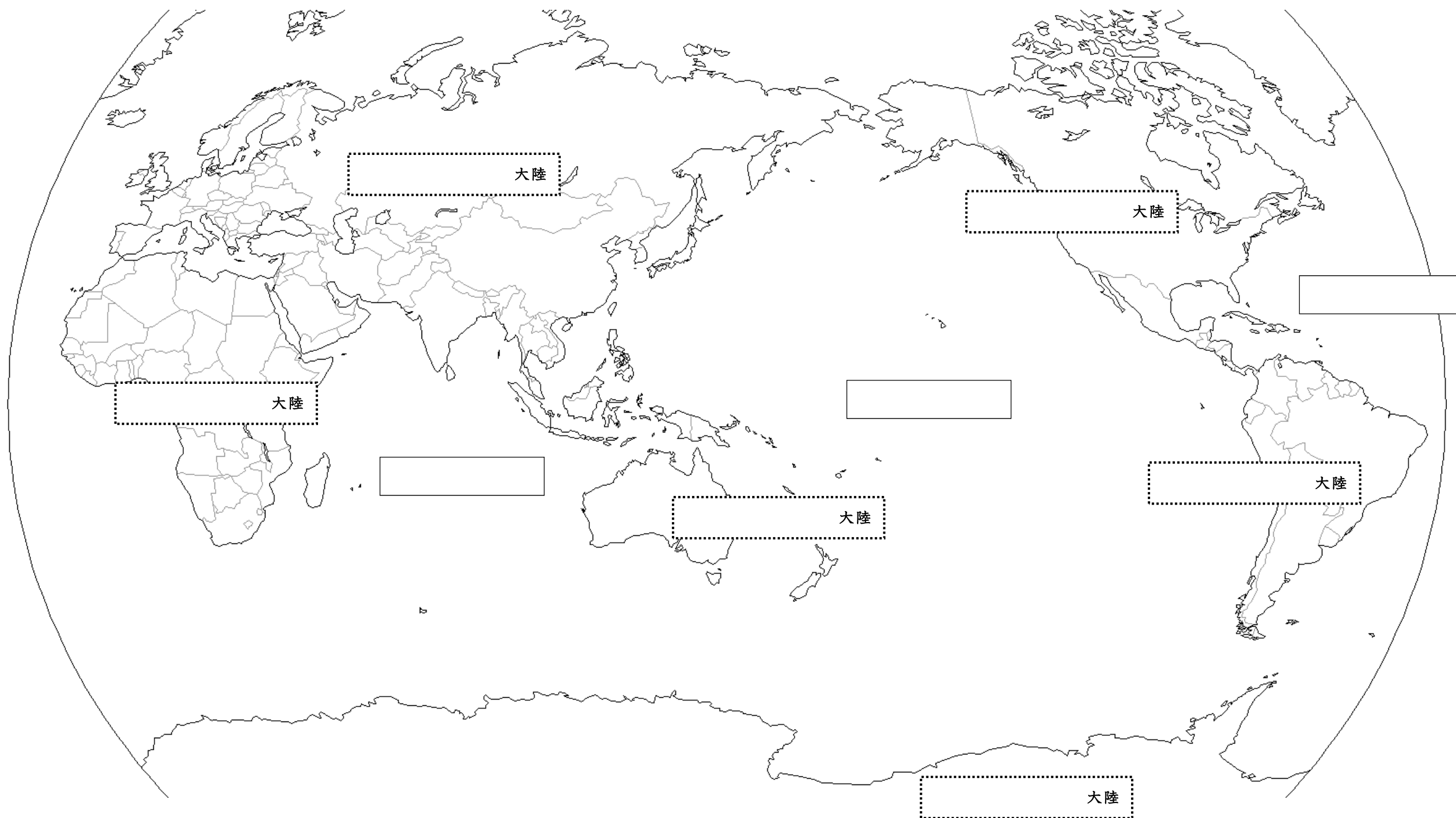
陸地よりも\_\_\_\_\_の方が多い。

## 1 わたしたちの国土①-2

課題 大陸や海洋についてまとめる。

①  に大陸の名前を，  に海洋の名前を書く。

②大陸を6色でぬる。



5年社会

名前

課題 世界の主な国々と国旗について調べる。(地図帳)



## 1 わたしたちの国土②

□の中に国名を書き、国の場所を線で結ぶ。

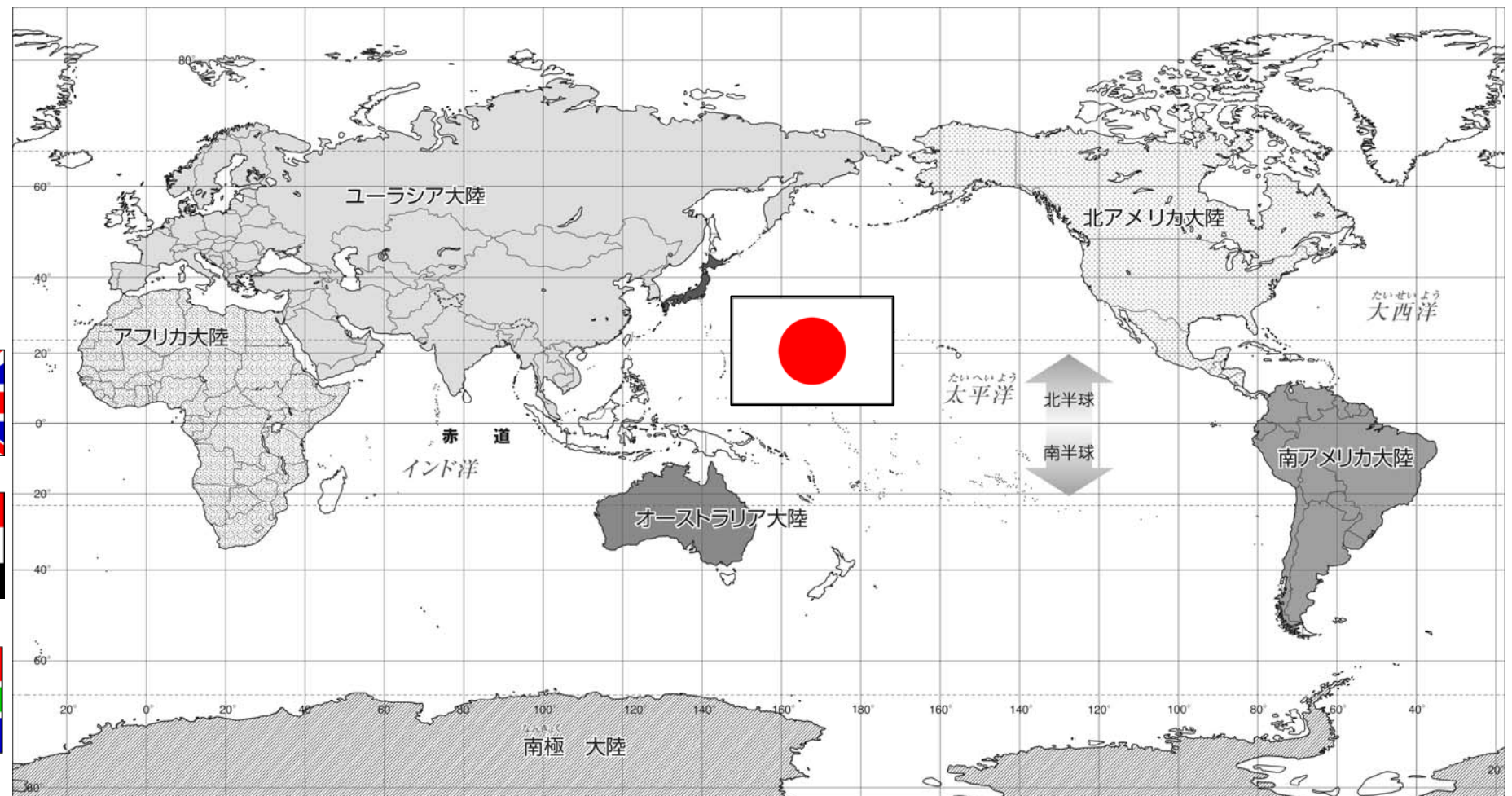


日本は、白地に太陽が赤くかがやいている様子を表している。

どの国の \_\_\_\_\_ にも、大切な意味や由来があり、時刻はもちろん、ほかの国の \_\_\_\_\_ も大切にすることが必要。



南アフリカ共和国



トルコ

