

1

整数と小数

組

番

名前

1 □にあてはまる数を書きましょう。

- ① 1を6個と、0.1を7個と、0.01を8個あわせた数は

です。

- ② 0.01を205個あつめた数は

です。

- ③ 4.63を10倍した数は

で、 $\frac{1}{10}$ にした数は

です。

2 計算をしましょう。

① $98 + 0.2$

② $3.4 + 1.27$

③ $7.38 + 8.54$

④ $5 - 3.45$

⑤ $4.5 - 0.7$

⑥ $4.09 - 3.29$

⑦ 0.8×10

⑧ $5.2 \div 10$

2

体積

組

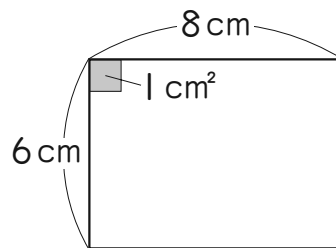
番

名前

1 □にあてはまる数を書きましょう。

① たてが6cm、横が8cmの長方形には、面積が 1cm^2 の

正方形がたてに□個、横に□個ならびます。

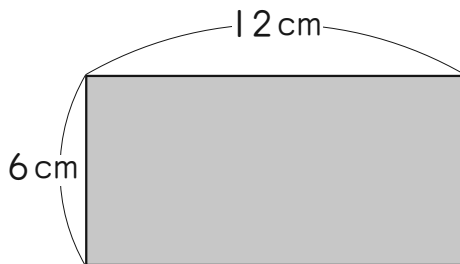
この長方形の面積は□ cm^2 です。

② 1Lは□dLだから、1dLですで28はい分の水のかさは

□L □dLです。

2 次の長方形や正方形の面積を求めましょう。

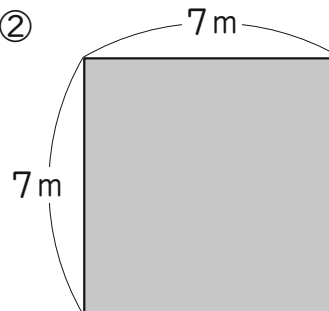
①



式

答え_____

②



式

答え_____