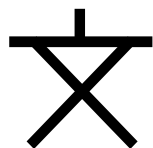


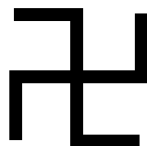



社会 学校のまわりの様子③

ち　　ざ　　ほうい　　よ
地図から方位を読みとってみよう。

①つぎの地図記号を調べて、に書きましょう。

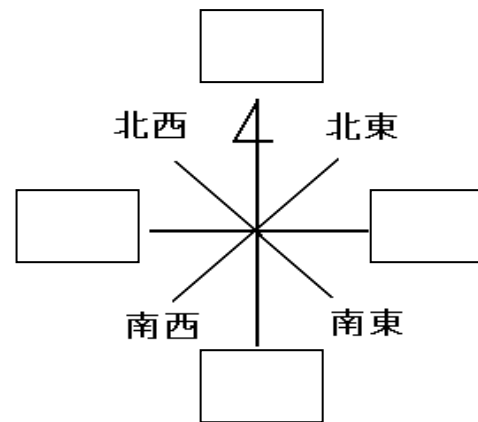


小学校
中学校



3年 組 番 名前()

② 東・西・南・北を に書き入れましょう。



③「学校のまわりの様子②」の地図を見て、東・西・南・北を
に書き入れましょう。

ア 世田谷区役所は、弦巻小学校の のほうにあります。

イ こまざわこうえん 駒沢公園は、弦巻小学校の のほうにあります。

ウ 弦巻小学校の のほうに、世田谷警察署があります。

エ 弦巻小学校の南西のほうに、駒沢給水塔があります。