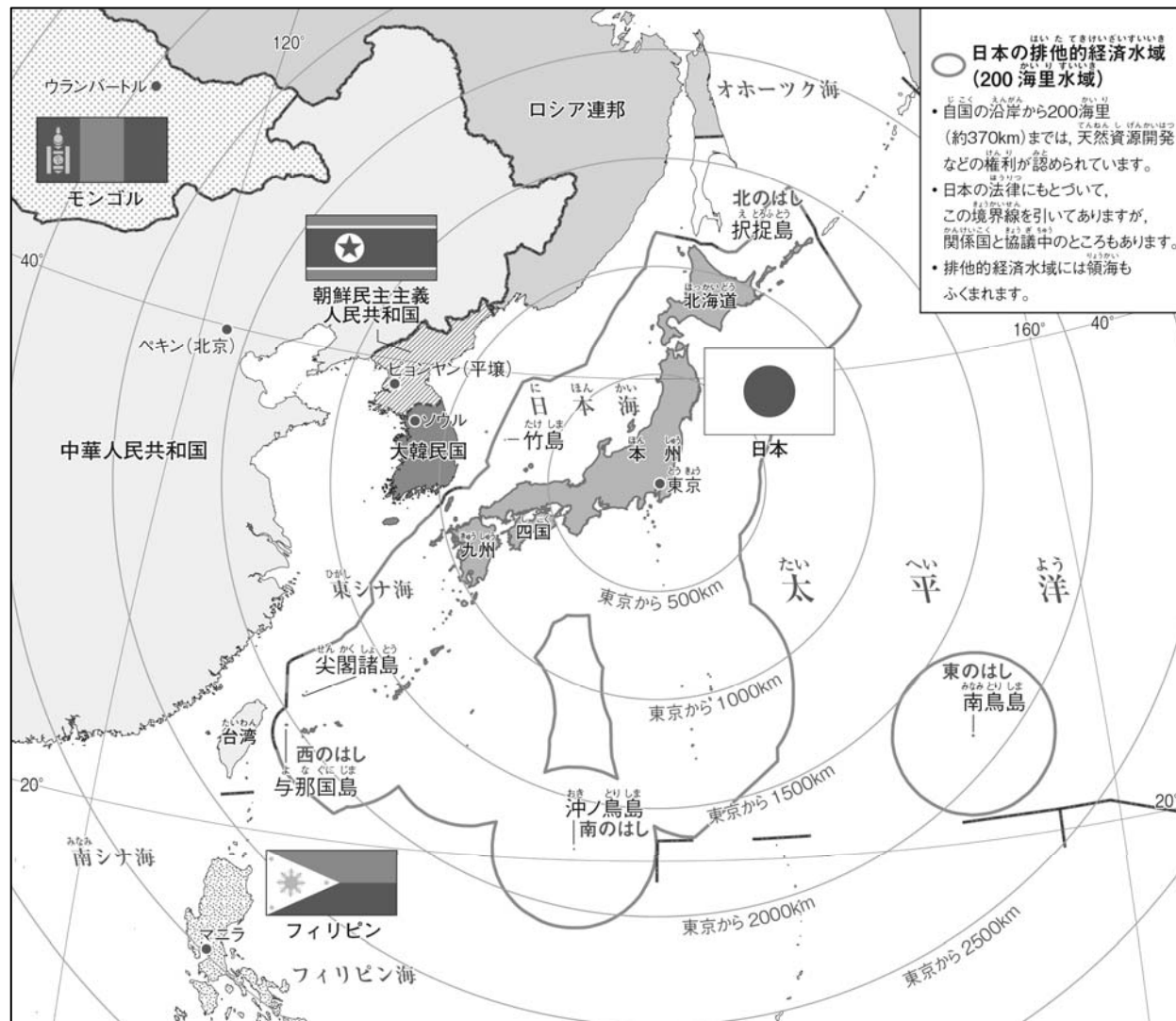


1 わたしたちの国土③

1 世界の中の国土 多くの島からなる日本

課題 日本の国土は、どのような特色があるのか調べる。



国土の広がりともわりの国々

①日本は、____、____、____、____の4

つの大きな島と、____以上の島が____に弓のよ
うに連なっている。

- ・ ……北のはしの島 (北海道)
- ・ ……南のはしの島 ()
- ・ ……東のはしの島 ()
- ・ ……西のはしの島 (県)

②日本のまわりの海

____、____、____、____

③日本のまわりの国々

(韓国)、____(北朝鮮)、
____(中国)、____、____、
____など。

1 世界の中の国土

領土をめぐる問題

課題

日本の領土のはんいはどのようになっているのか調べる。

・・・その国のもつ陸地と、陸地に囲まれた川や湖など。海岸から 12 海里（約 22km）を「領海」、領土と領海の上空を「領空」という。許可なく、他の国の領土や領空に入っははいけないことになっている。

①

・・・北海道の北東に続く、日本固有の領土。

群島、島、島、島

が、太平洋戦争後から不法に占拠している。

日本政府は、返すように求めて、交渉を続けている。

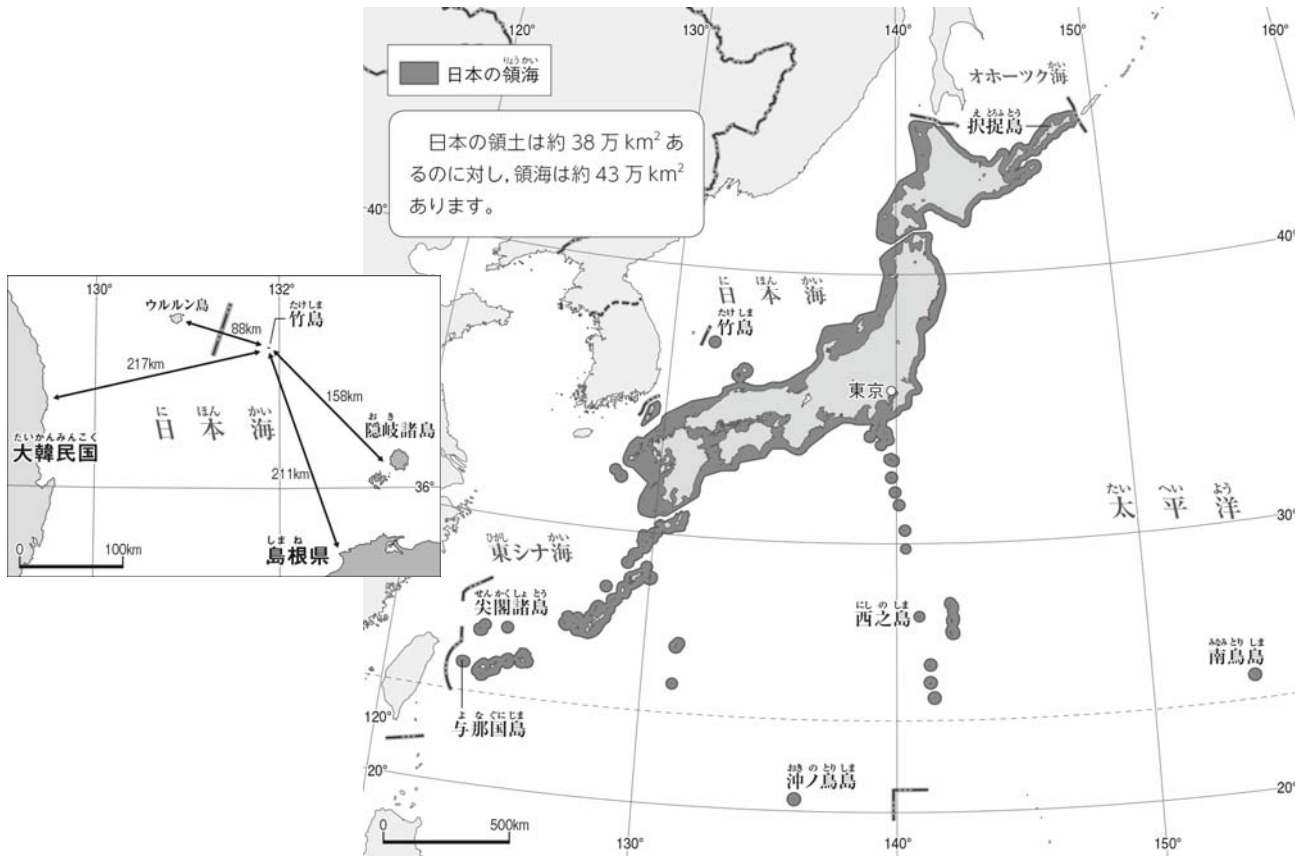
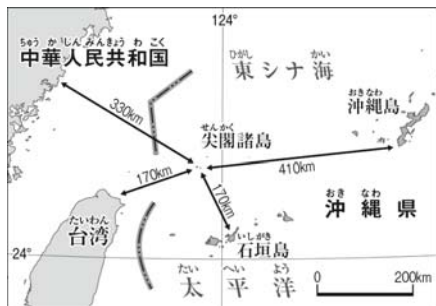
②

・・・日本海上にある、日本固有の領土。

が不法に占拠している。

日本は抗議を続けている。

日本の領土と領海



③

・・・東シナ海にある、日本が有効に支配する固有の領土。

が領有を主張しているが、領土問題は存在しない。