

ひょう表 と グラフ ^{プリント}① くみ 名まえ

☆みんなの すきな スポーツを しらべます。名まえカードを すきな スポーツの ところにはりました。

やきゅう	サッカー	ドッジボール
大すけ いちろう ゆうじ	はるき たかや しょうた	たくや ゆうか えみ
ひてき たけし	じゅん つばさ たくみ	けんた ひろき あや さくら
水えい	なわとび	マラソン
ちえ あすか こうた	だいち ゆり	かんた あみ
こうすけ みずき	まき ともみ	

① それぞれの スポーツを えらんだ 人数を、ひょうにかきましょう。

すきなスポーツ	やきゅう	サッカー	ドッジボール	水えい	なわとび	マラソン
人数 (人)	5					

② 人数を、○をつかって、右の グラフに あらわしましょう。

すきな スポーツ

○					
○					
○					
○					
○					
やきゅう	サッカー	ドッジボール	水えい	なわとび	マラソン

③ 人数が いちばん おおい スポーツは どれですか。

また なん人ですか。

()で()人

④ 人数が 2ばんめに おおい スポーツは どれですか。


また なん人ですか。

()で()人

表とグラフ② ワークシート 名まえ


きょうが書
13~14p

もんだい① グラフを見て、人数を お表 ひょうにかきましょう。




すきなきゅう食 いくしらべ

しゅるい	あげパン	スパゲティ	カレー	シチュー	ハンバーグ
人数(こ)					



いちばん かず数 おほが多い
きゅう食は()で、
その かず数 おほは()人です。

もんだい② くだものの かず数 ひょうを 表や グラフに
あらわしましょう。



くだものの 数しらべ

もも	りんご	みかん	メロン

くだものの 数しらべ

しゅるい	もも	りんご	みかん	メロン
数(こ)				

○は、
← 下から
かこう



- ① いちばん おほ数 おほが多い くだものは どれでしょうか。()
また、その なん数 おほは 何こでしょうか。()
- ② 2番めに ばん数 おほが多い くだものは どれでしょうか。()
また、その なん数 おほは 何こでしょうか。()

ひょう 表 と グラフ ① くみ 名まえ ことえ

☆みんなの すきな スポーツを しらべます。名まえカードを すきな スポーツの ところにはりました。

やきゅう	サッカー	ドッジボール
大すけ いちろう ゆうじ ひでき たけし 5人	はるき たかや しょうた じゅん つばさ たくみ 6人	たくや ゆうか えみ けんた ひろき あや さくら 7人
水えい	なわとび	マラソン
ちえ あすか こうた こうすけ みずき 5人	たいち ゆり まき ともみ 4人	かんた あみ 2人

① それぞれの スポーツを えらんだ 人数を、ひょうにかきましょう。

すきなスポーツ	やきゅう	サッカー	ドッジボール	水えい	なわとび	マラソン
人数 (人)	5	6	7	5	4	2

② 人数を、○をつかって、右の グラフに あらわしましょう。

③ 人数が いちばん おおい スポーツは どれですか。


また なん人ですか。

(ドッジボール)で(7)人

④ 人数が 2ばんめに おおい スポーツは どれですか。

また なん人ですか。


(サッカー)で(6)人



表とグラフ② - くみ 名まえ こたえ

きょうか書
13~14ページ

もんだい① グラフを見て、人数を ^お表 ^ひにかきましょう。



○の数をかぞえて、数字をかこう


すきなきゅう食しらべ

しゅるい	あげパン	スパゲティ	カレー	シチュー	ハンバーグ
人数(こ)	4	4	8	3	6



いちばん ^{かず}数 ^{おほ}が多い
きゅう食は(カレー)で、
その ^{かず}数は(8)人です。

もんだい② くだもの ^{かず}の ^{ひょう}数を ^{ひょう}表や ^{ひょう}グラフにあらわしましょう。



くだもの 数しらべ

	○		
	○		
	○		
	○	○	
	○	○	
○	○	○	
○	○	○	
○	○	○	○
○	○	○	○
もも	りんご	みかん	メロン

○は、
下から
かこう

くだもの 数しらべ

しゅるい	もも	りんご	みかん	メロン
数(こ)	4	9	6	2



- ① いちばん 数が多い ^{おほ}くだものは どれでしょうか。(りんご)
また、その 数は ^{なん}何こでしょうか。(9こ)
- ② 2番めに 数が多い ^{おほ}くだものは どれでしょうか。(みかん)
また、その 数は ^{なん}何こでしょうか。(6こ)