

3年生 時こくと時間② (教科書p28~p29)

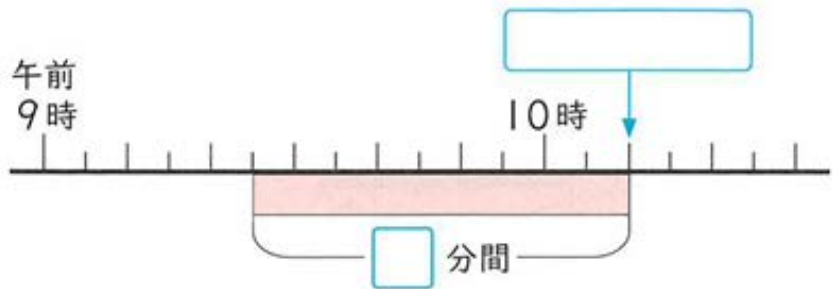
年 組 名前

1 次の時こくを午前・午後をつけて答えよう。

(1) 学校から公園まで歩くと、45分かかります。

午前10時10分につくには何時何分に学校を出ればいいですか。

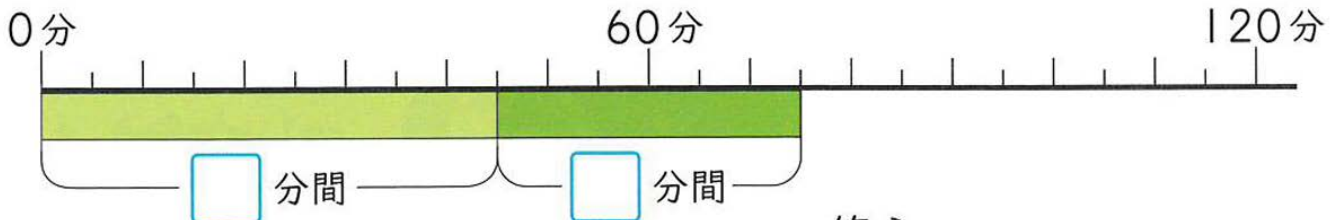
1 にあてはまる時こくや時間を書いて、場面を図にあらわ表しましょう。



答え () 時 分

2 次の時間答えよう。

(1) 公園で45分間遊び、30分間おべんとうを食べました。あわせて何分間でしょう。

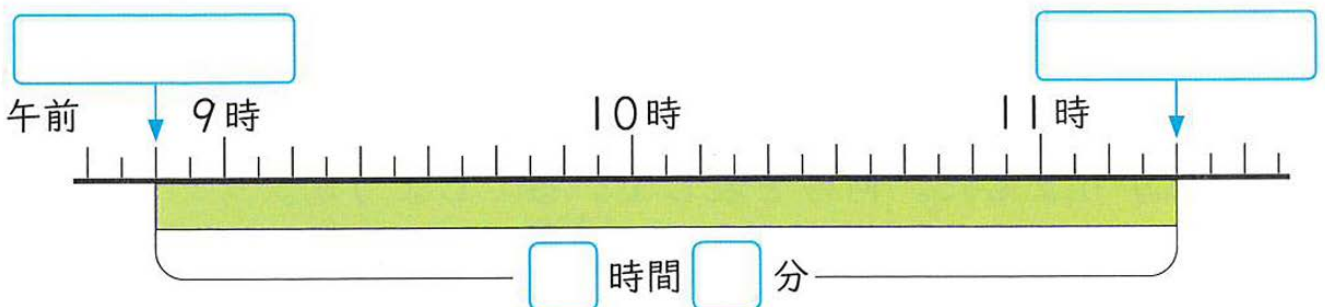


答え

(2) 町たんけんにしゅっぱつします。

学校を出る時こくは午前8時50分で、もどってくる時こくは午前11時20分です。

町たんけんに出かけている時間は何時間何分でしょう。



答え