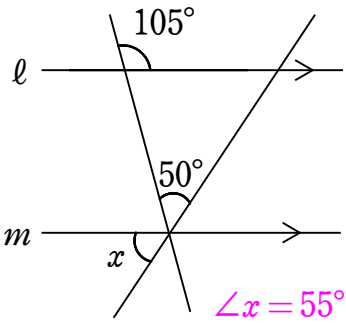
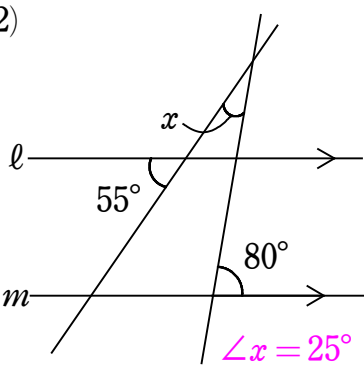


1 下の図で、 $l \parallel m$ のとき、 $\angle x$ の大きさを求めなさい。

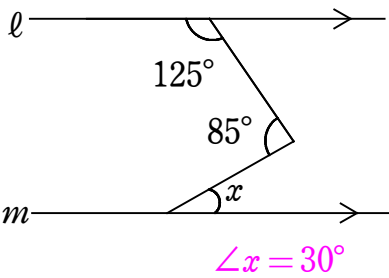
(1)



(2)

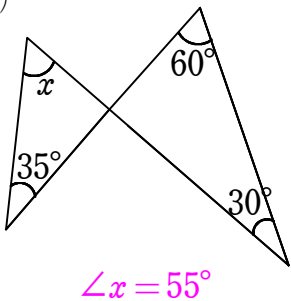


(3)

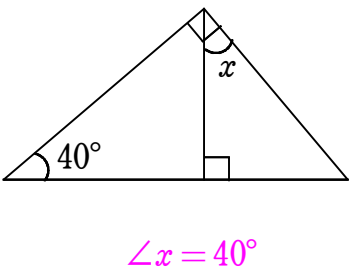


2 下の図で、 $\angle x$ の大きさを求めなさい。

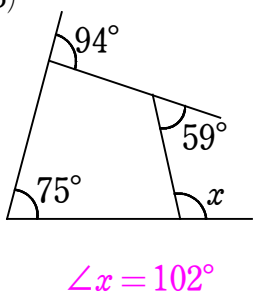
(1)



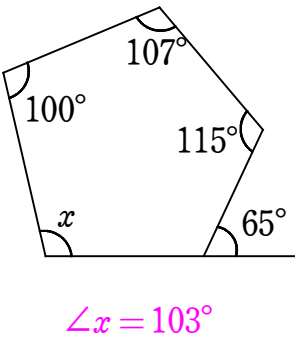
(2)



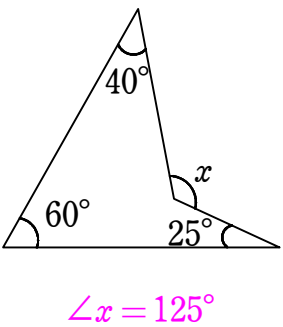
(3)



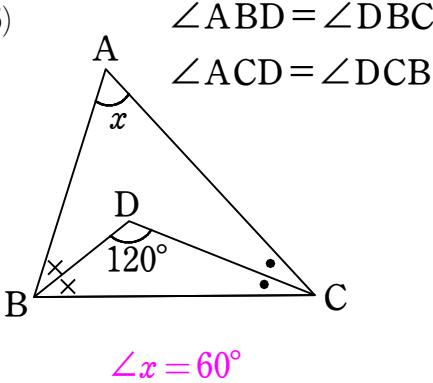
(4)



(5)



(6)



3 次の問いに答えなさい。

(1) 1つの外角が 45° である正多角形は正何角形ですか。

正八角形

(2) 内角の和が 2340° である多角形は何角形ですか。

十五角形