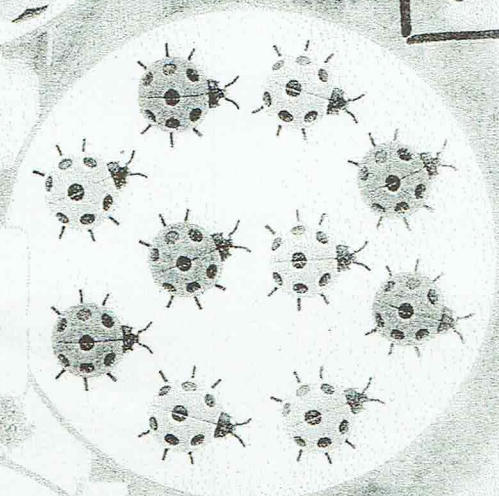


せんせい⑧にたえ

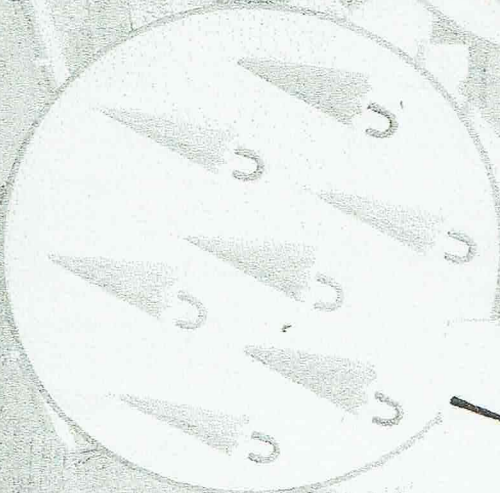
1年

8




10


7





9



6



カードをみて、  
デロツクをならべてみよう。



1年さんすう⑨こたえ

1ねん くみ ( )

〇いくつかな

おさらい：6～10まで すうじを かいてみましょう。

ろく しち はち く じゅう

|   |   |   |   |    |
|---|---|---|---|----|
| 6 | 7 | 8 | 9 | 10 |
|---|---|---|---|----|

☆きょうかしょ18、19ページを みましょう。

もんだい

ブロックのえをみて そのかずのすうじを □に かきましょう。

れんしゅう

1 2 3 4 5 6 7 8 9 10

(1) 1～10を いろいろなよみかたで よんでみましょう！  
できたら、〇をかきましょう。

|                    |  |
|--------------------|--|
| すうじをみながら、1からじゅんばんに |  |
| すうじをみながら、10からはんたいに |  |
| すうじをみないで、1からじゅんばんに |  |
| すうじをみないで、10からはんたいに |  |

(2) つぎの かずだけ ブロックを ならべてみましょう。

- ① 5
- ② 7
- ③ 3
- ④ 9

♪おまけ

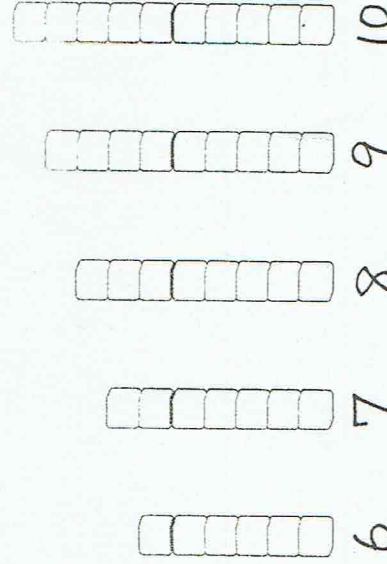
おうちのひとに 1～10のすうじを いってもらいましょう。

そのすうじのかずだけ ブロックを ならべましょう。

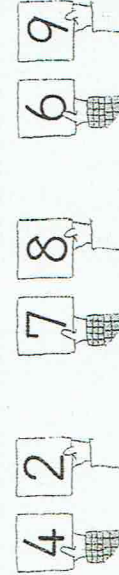


\*このプリントを せんせいに だしましう。

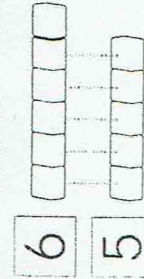

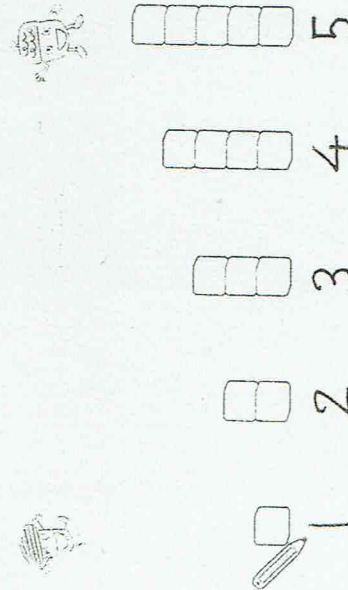
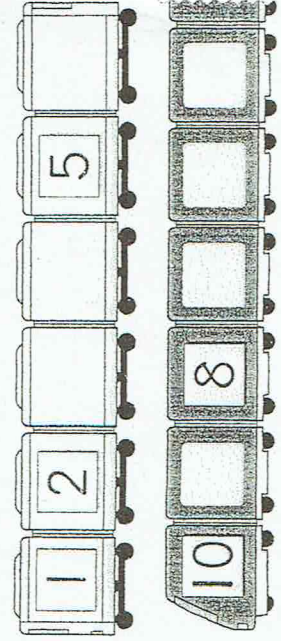
きょうかしょは がっこうがはじまったら せんせいに だしましう。



どちらの かずが おおきいでしょうか。



にあてはまる かずをかきましょう。



いいかえて みましょう。

「6は 5より おおきい かずです。」

「5は 6より ちいさい かずです。」

さんすう⑩ー1こたえ

1ねん くみ ( )

〇いくつかな

おさらい：1～10まで、じゆんばんに いてみよう。  
また、10からはんたいに いてみよう。

もんだい

どちらのすうじが おおきいかな。おおきいほうのすうじに ○をつけよう。

①

|   |   |   |
|---|---|---|
| 3 | — | 5 |
|---|---|---|

②

|   |   |   |
|---|---|---|
| 8 | — | 2 |
|---|---|---|

③

|   |   |   |
|---|---|---|
| 7 | — | 4 |
|---|---|---|

れんしゆう

(1) どちらが おおきいかな。どちらが ちいさいかな。ことばでいてみよう。  
□にあてはまるすうじをかきましょう。

①

|   |   |   |
|---|---|---|
| 8 | は | 5 |
| 5 | は | 8 |

より おおきい かずです。

より ちいさい かずです。

②

|   |   |   |
|---|---|---|
| 7 | は | 3 |
| 3 | は | 7 |


より おおきい かずです。

より ちいさい かずです。



さんすう⑩—2こたえ

1ねん くみ ( )

- ③
- |   |   |   |    |      |       |
|---|---|---|----|------|-------|
| 6 | は | 4 | より | おおきい | かずです。 |
| 4 | は | 6 | より | ちいさい | かずです。 |
- 

(2) □にあてはまる すうじを かきましょう。

- ①
- |   |   |   |   |   |   |   |
|---|---|---|---|---|---|---|
| 1 | 2 | 3 | 4 | 5 | 6 | 7 |
|---|---|---|---|---|---|---|
- ②
- |    |   |   |   |   |   |   |
|----|---|---|---|---|---|---|
| 10 | 9 | 8 | 7 | 6 | 5 | 4 |
|----|---|---|---|---|---|---|

♪おまけ

おうちのひとと ゲームをしよう!

つかうもの: かずのカード (つぎの ページについているので、いんさつをして、きりわけてください。)

(ルール)

- ・カードを うらむきにして もちます。
- ・「いつせえの、せ!」で、1まい おもてむきにして だします。
- ・おおきいかずを だしたひとが 1ポイントです。
- ・おなじカードは 1かいしか つかえません。
- ・おなじ おおきさのときは どちらも 0てん です。

\*ルールをかえて、あそんでみても たのしいよ。  
ぜひ、やってみてね。

\*このプリントを せんせいに だしましょう。

1年さんすう⑪—1こたえ

1ねん くみ (

おいくつかな  
おさらい:

□にあてはまる すうじを かきましょう。

|   |   |   |    |      |       |
|---|---|---|----|------|-------|
| 4 | は | 2 | より | おおきい | かずです。 |
|---|---|---|----|------|-------|

|   |   |   |    |      |       |
|---|---|---|----|------|-------|
| 2 | は | 4 | より | ちいさい | かずです。 |
|---|---|---|----|------|-------|

|   |   |   |    |      |       |
|---|---|---|----|------|-------|
| 7 | は | 1 | より | おおきい | かずです。 |
|---|---|---|----|------|-------|

|   |   |   |    |      |       |
|---|---|---|----|------|-------|
| 1 | は | 7 | より | ちいさい | かずです。 |
|---|---|---|----|------|-------|



もんだい  
つぎのかずを いいましよう。

|           |   |
|-----------|---|
| ● ● ● ○ ○ | 3 |
|-----------|---|

|             |   |
|-------------|---|
| ● ● ○ ○ ○ ○ | 2 |
|-------------|---|

|             |   |
|-------------|---|
| ● ○ ○ ○ ○ ○ | 1 |
|-------------|---|

|             |   |
|-------------|---|
| ○ ○ ○ ○ ○ ○ | 0 |
|-------------|---|

「れい」と  
いいます

1年さんすう⑩ー2こたえ  
1ねん くみ ( )

れんしゆう

きようかしよ 20ペー<sup>ペ</sup>ジ<sup>ジ</sup>の わなげの えを みましよう。

いくつ はいったでしようか。すうじで したに かきましよう。

あつし

3

はると

0

まき

2

ゆり

1

☆ことばであそぼう☆

1～10、00のいみやよみかた、かきかたは わかったかな。

さいごに、ことばをつかって、すうじのがくしゆうを

ふりかえりましよう。

きようかしよ21ペー<sup>ペ</sup>ジ<sup>ジ</sup>の □に あてはまることばを かきこみましよう。

\*このプリントを せんせいにだしましよう。

きようかしよは がっこうがはじまつたら せんせいにだしましよう。