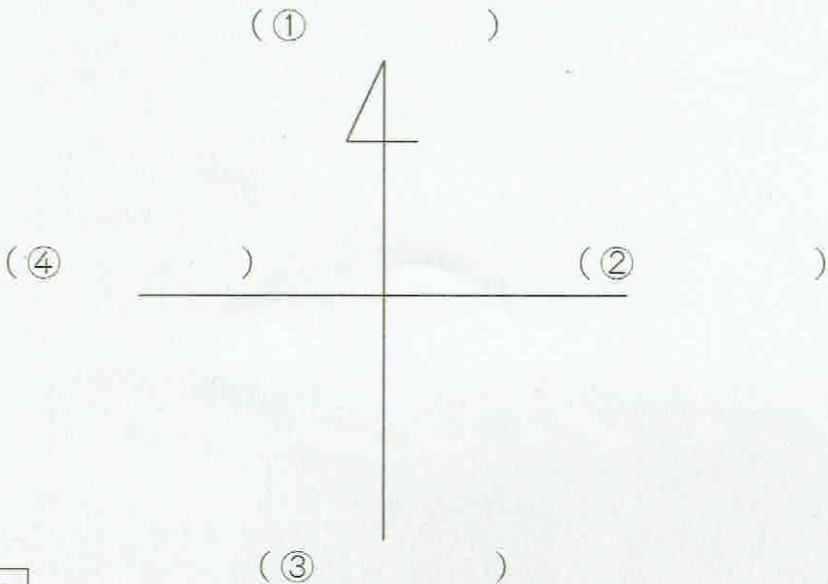


1-(1)	地図から何が分かるかな. 1	___年 ___組
		名前

1 次の方位記号の①～④に当てはまる方位を書きましょう。



ポイント 方位記号の矢印は、「北」をさしています。

ポイント 北の反対が「南」になります。北が上のときは、「東」が右、「西」が左になります。

2 次の地図を見て、下の①～③には当てはまる方位を、④～⑥には当てはまる建物を書きましょう。

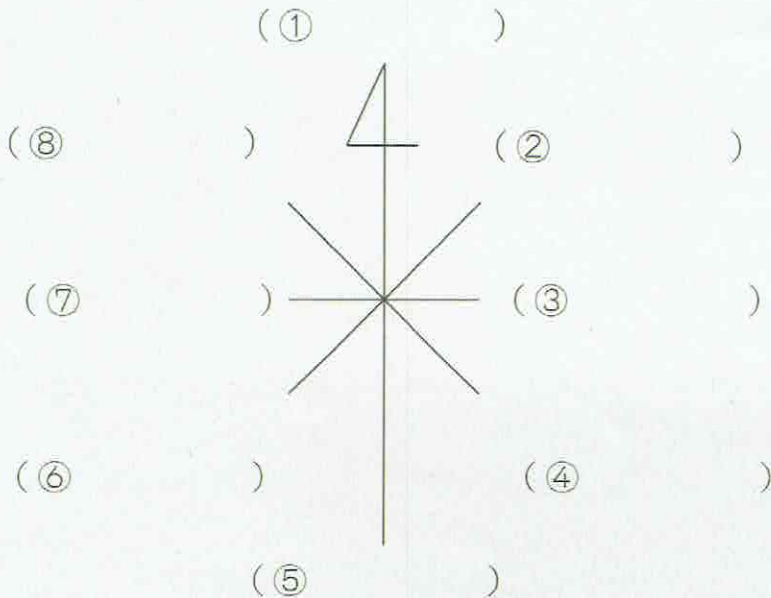


ポイント 地図はふつう北を上にしてかいてあります。方位記号が書いていない場合は、北が上になります。

- ① 市役所の () に、ゆう便局があります。
- ② 工場は、ゆう便局の () にあります。
- ③ 小学校は、グラウンドの () にあります。
- ④ 地図中で一番東にある建物は、() です。
- ⑤ 駅より西にある建物は、()・()・() です。
- ⑥ 大江戸川より南にあり、駅より西にある建物は、() です。

1-(2)	地図から何が分かるかな 2	___年 ___組
		名前

1 次の方位記号の①～⑧に当てはまる方位を書きましょう。



ポイント はちほうい
八方位をつか
うと、四方い
しほうい
（北、南、東、西）より
もくわしく方位を
あらわ
表すことができます。

2 次の地図を見て、下の①～③には当てはまる方位を、④～⑥には当てはまる建物を書きましょう。



- ① 小学校は、たけしくんの家のか()にあります。
- ② 工場は、市役所のか()にあります。
- ③ 駅は、けい察しよのか()にあります。
- ④ 工場の南東には、()があります。
- ⑤ 駅の北西にあるのは、()です。
- ⑥ たけしくんの家のか北東には、()と()があります。

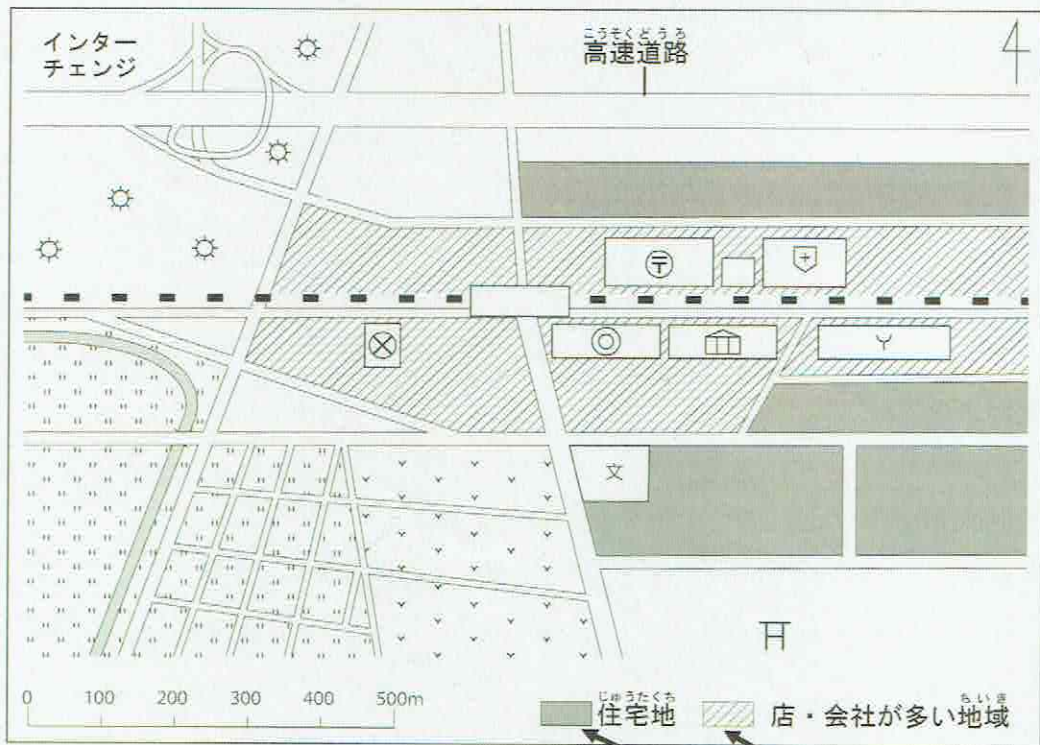
1-(3)	地図から何が分かるかな 3	___年 ___組
		名前

1 次の地図記号は、何を表していますか。()に当てはまる名前を書きましょう。

文	◎	⊗	Y	☀
()	()	()	()	()
+	冂	⌒		∨
()	()	()	()	()

ポイント 地図記号は、「建物・しせつ」や「土地の使われ方」、「交通」にかかわるものなどを記号にしたものです。

2 下の地図を見て、①～⑤の()に当てはまる言葉を書きましょう。



ポイント 地図記号のほかにも、このように「色」や「もよう」を使って、土地の使われ方を表すことがあります。

- ① 市役所から見て()には、水田が広がっています。
- ② 駅のまわりには、公共しせつや()が多くあります。
- ③ 学校の東がわには、()が広がっています。
- ④ ()は、高速道路のインターチェンジの近くにたくさんあります。
- ⑤ 駅の南西を流れる川のまわりには、()が広がっています。