

学校のまわりの様子

3年 組 番
名前()

【めあて】わたしたちがくらししているまちは、どんな様子でしょうか。

①わたしたちがくらししているまちは、どんなようすですか？「〇〇がある。」「〇〇が多い。」など、知っていることを、できるだけたくさん書きましょう。

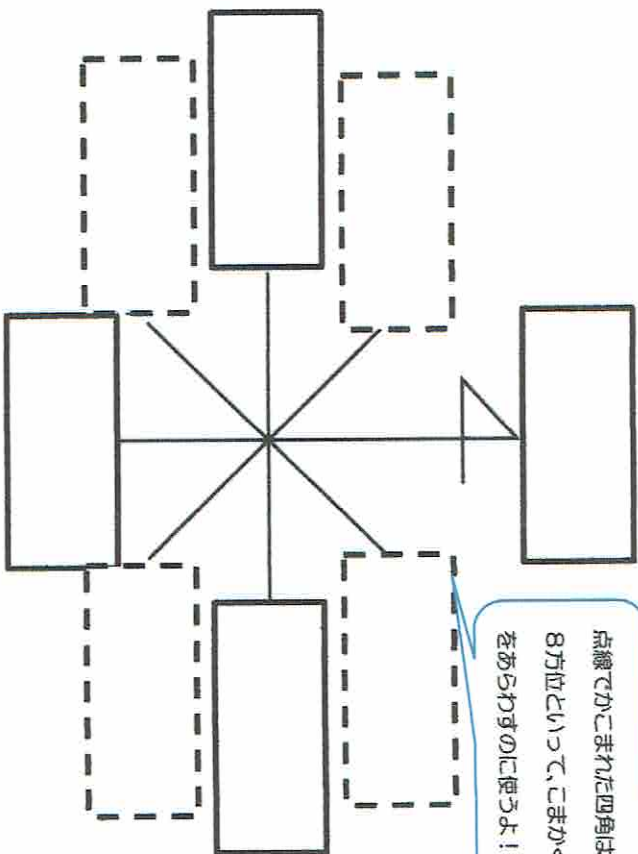
(れい) ・じゃぶずれ川がある。 ・家が多い。 ・バスのえいぎよう所がある。

②まちのようすをさらにくわしく知るには、どうしたらいいでしょうか。自分の考えを書きましょう。

(れい) ・じっさいに見に行く。

③地図には、「方位」をあらわす記号がかかれています。「小学生の地図帳」9ページを見て、8つの方位を下に書きましょう。

点線でかこまれた四角は、8方位といって、こまかく方位をあらわすのに使うよ！



④「小学生の地図帳」の12ページを見て、地図で使う記号を調べましょう。1つは自分で記号をえらんで書きましょう。

文	⊕		
⊙	⊕		
∨	⊥		
∩			


学校のまわりの様子ようす

名前()
3年 組

【めあて】 わたしたちがくらししているまちは、どんな様子でしょうか。
地図を見ながら、くわしく予想してみましょう。



社会科では、航空写真真や地図上の
いちをあらわす時も、方位を使うよ。
たとえば、地図の上の方を「北が
わ」、下の方を「南がわ」、右の方を
「東がわ」、左の方を「西がわ」とあら
わすよ。



①土地の様子
土地が高いところ・ひくいところ、さかの
あるところなどがあるかな？
(れい)松丘公園は、近くの通りよりも高い
ところにある。

③交通の様子
このまちには鉄道(電車)やバスは走っているかな？
(れい)・両親が会社に行くのに、桜新町駅をつかっている。

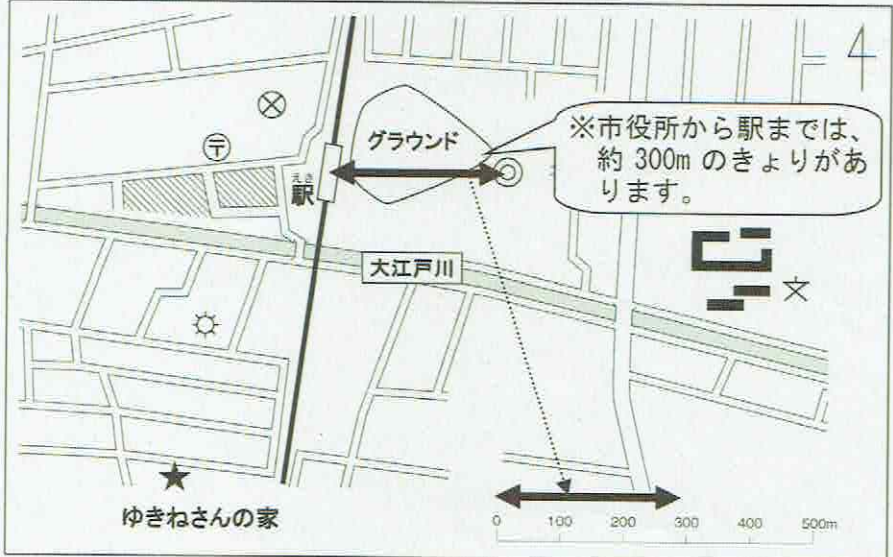
②土地のつかわれ方
土地はどんなつかわれ方をしているかな？どんなつかわれ方が多いかな？
(れい)・お店や畑がある。 ・家が多い。

1-(4)	地図から何が分かるかな 4	年 組
		名前

1 次の の中に地図記号をかきましょう。

区(市)役所	消ぼうしょ	神社	工場
<input type="checkbox"/>	<input type="checkbox"/>	<input type="checkbox"/>	<input type="checkbox"/>
駅(JR線)	ゆう便局	田	博物館
<input type="checkbox"/>	<input type="checkbox"/>	<input type="checkbox"/>	<input type="checkbox"/>

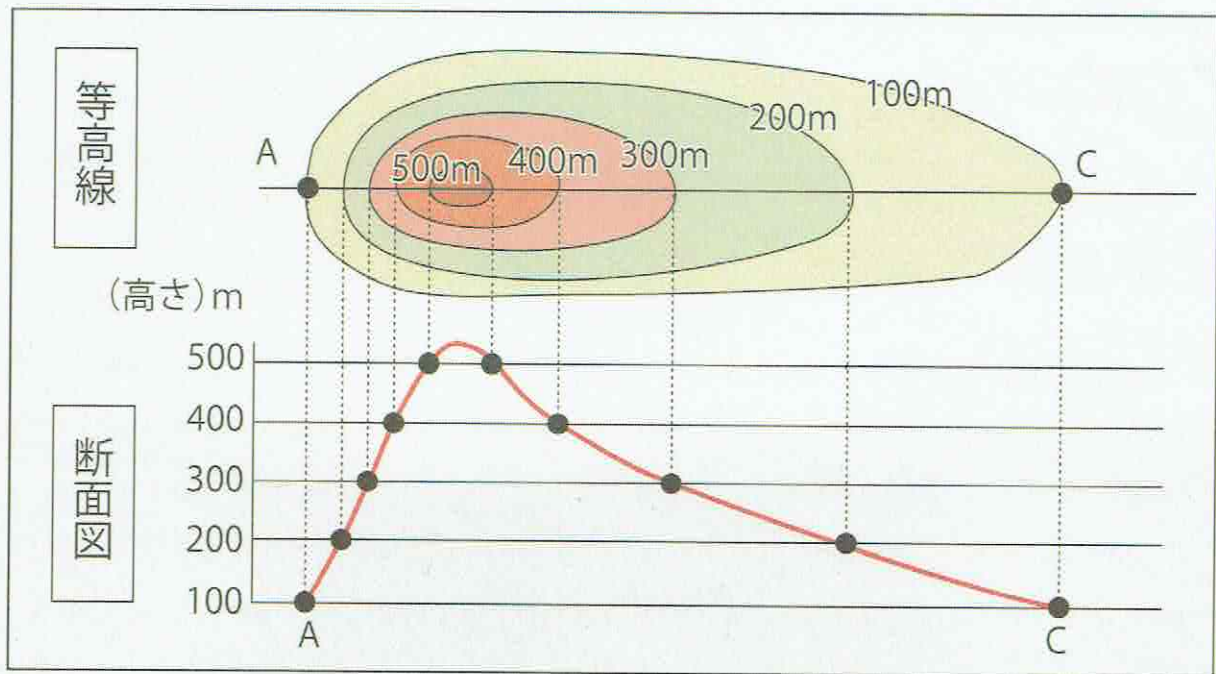
2 次の図を見て、①～⑤の()に当てはまる言葉や数字を書きましょう。



ポイント
 きよりのはかり方
 地図には、下のよう
 な「ものさし」がかか
 れています。この「も
 のさし」を使うと、実
 さいのきよりをはか
 ることができます。

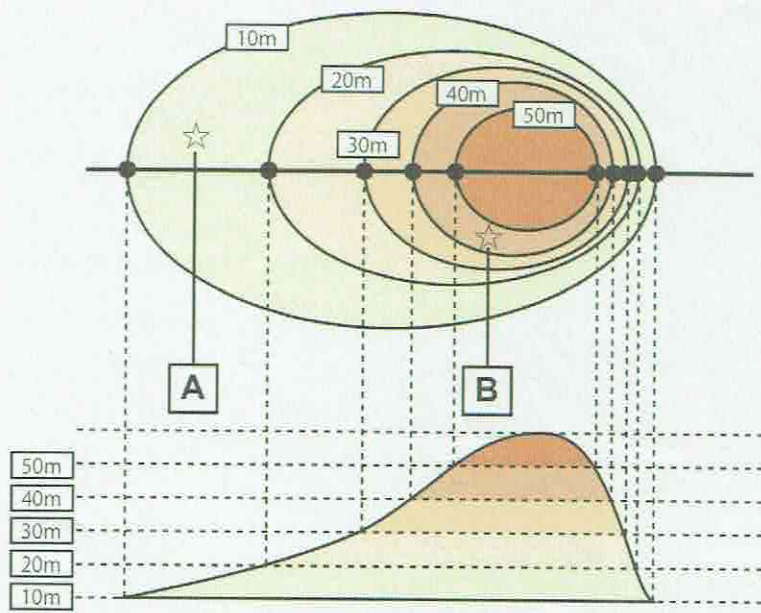
- ① 駅からけい察しょまでは、約()mのきよりがあります。
- ② 学校からグラウンドまでは、約()mのきよりがあります。
- ③ 駅からゆきねさんの家までは、約()mのきよりがあります。
- ④ ゆきねさんの家から北に約300mの場所には、()があります。
- ⑤ ゆきねさんの家から北に約500mの場所には、()があります。

1-(5)	地図から何が分かるかな 5	年 組
		名前



ポイント 等高線 (とうこうせん)
 土地の高さが同じところを結んだ線を等高線といいます。等高線で表した地図を使うと、土地の高低がよく分かります。

下の地図の **A** 地点と **B** 地点の高さを書きましょう。



A 地点は、
 高さ () m から
 () m の間にあります。

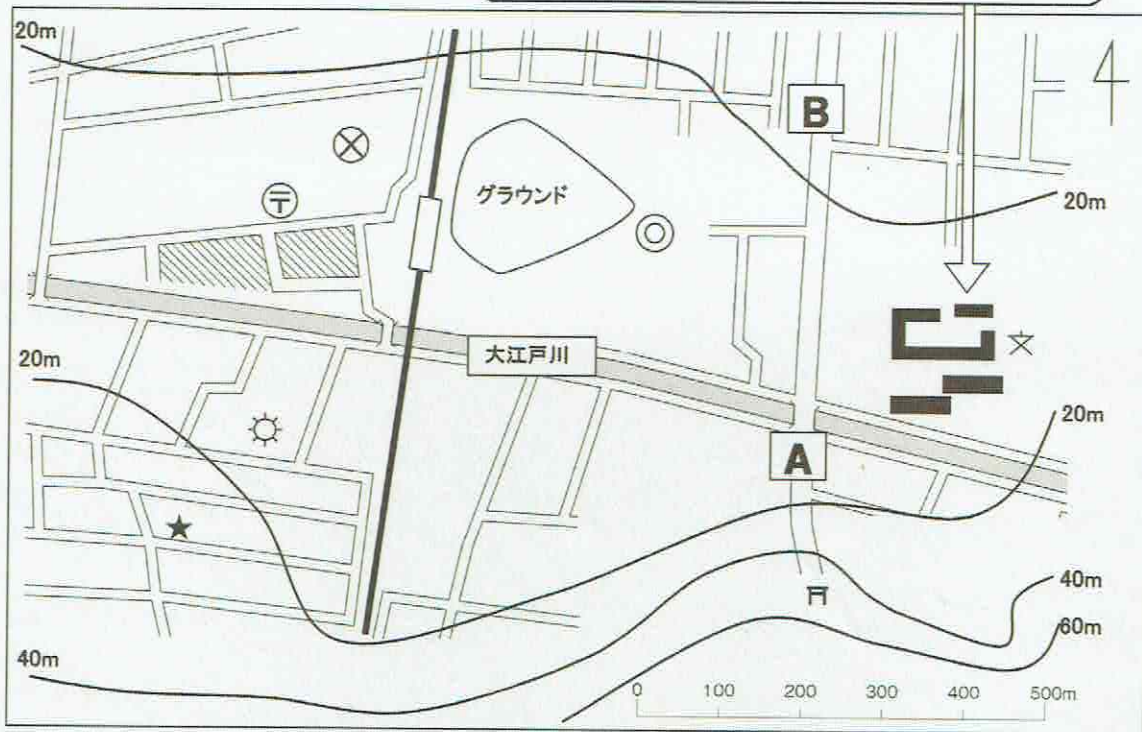
B 地点は、
 高さ () m から
 () m の間にあります。

1-(6)	地図から何が分かるかな	年 組
		名前

1 次の地図を見て、①～⑤の()に当てはまる言葉や数字を書きましょう。

すしむすいけれど
できるかな...?

学校は20mよりも低い位置にあります。



★あかねさんの家

- ① 神社は、高さ()mから()mの間にあります。
- ② あかねさんの家は、高さ()mから()mの間にあります。
- ③ 大江戸川の北と南では、()の土地の方が高くなっています。
- ④ A地点から神社までの道は、()坂になっています。
- ⑤ 大江戸川は、()から()の方位へ流れています。

←できるすい!!

ポイント 等高線の間がせまいと、しゃ面は急になっています。等高線の間が広いと、しゃ面はゆるやかになっています。

2 A地点から神社までの道と、A地点からB地点までの道では、どちらの方が急な坂道になっていますか。その理由も書きましょう。

A地点から ()までの道	(理由)
	A

1-(4)	地図から何が分かるかな 4	年 組
		名前

1 次の の中に地図記号をかきましょう。

区(市)役所	消防しょ	神社	工場
駅(JR線)	ゆう便局	田	博物館

2 次の図を見て、①～⑤の()に当てはまる言葉や数字を書きましょう。



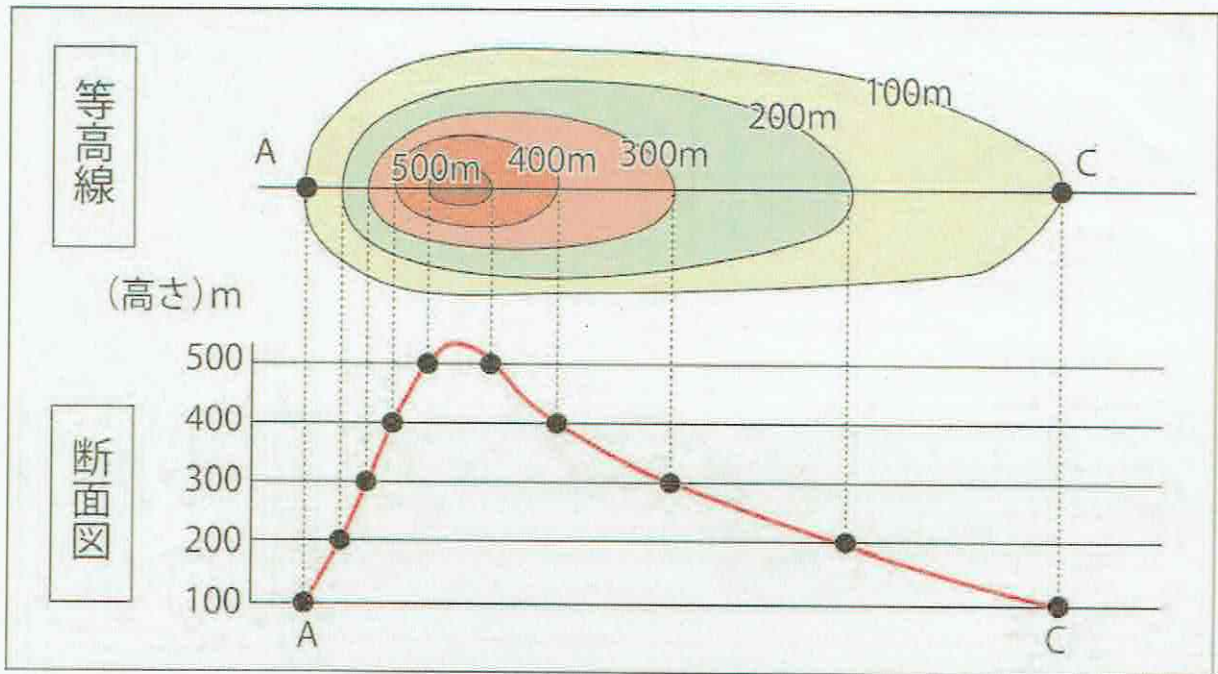
ポイント

きよりののはかり方

地図には、下のよう
な「ものさし」がかか
れています。この「も
のさし」を使うと、実
さいのきよりをはか
ることができます。

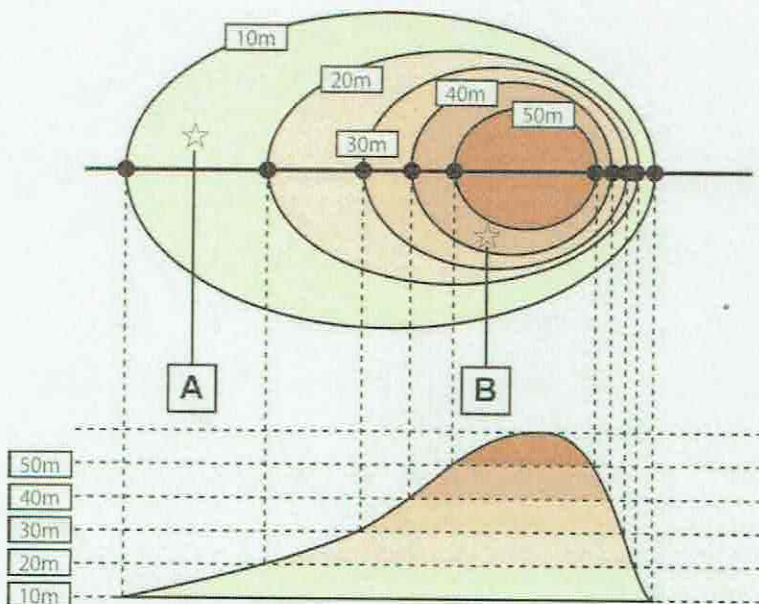
- ① 駅からけい察しょまでは、約(100)mのきよりがあります。
- ② 学校からグラウンドまでは、約(400)mのきよりがあります。
- ③ 駅からゆきねさんの家までは、約(500)mのきよりがあります。
- ④ ゆきねさんの家から北に約300mの場所には、(工場)があります。
- ⑤ ゆきねさんの家から北に約500mの場所には、(ゆう便局)があります。

1-(5) 地図から何が分かるかな 5 年 組
名前



ポイント 等高線 (とうこうせん)
土地の高さが同じところを結んだ線を等高線といいます。等高線で表した地図を使うと、土地の高低がよく分かります。

下の地図の **A** 地点と **B** 地点の高さを書きましょう。

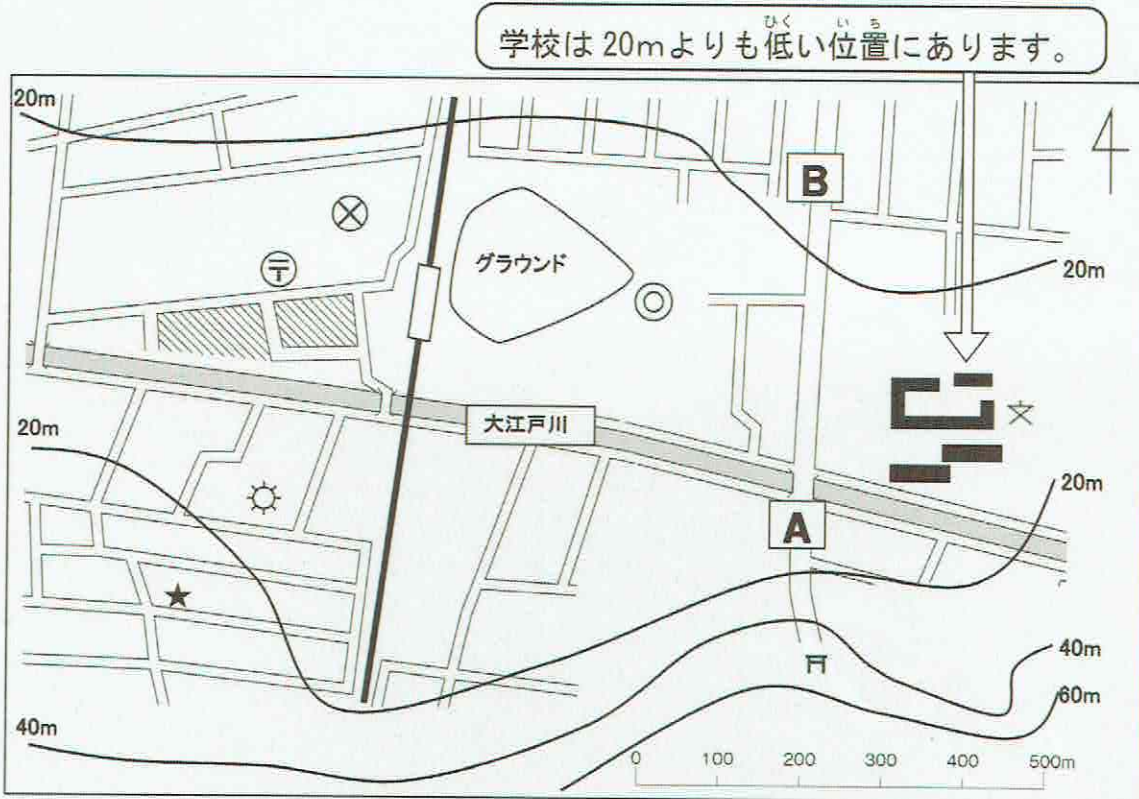


A 地点は、
高さ (1 0) m から
(2 0) m の間にあります。

B 地点は、
高さ (4 0) m から
(5 0) m の間にあります。

1-(6)	地図から何が分かるかな 6	年 組
		名前

1 次の地図を見て、①～⑤の()に当てはまる言葉や数字を書きましょう。



- ① 神社は、高さ(40)mから(60)mの間にあります。
- ② あかねさんの家は、高さ(20)mから(40)mの間にあります。
- ③ 大江戸川の北と南では、(南)の土地の方が高くなっています。
- ④ A地点から神社までの道は、(上り)坂になっています。
- ⑤ 大江戸川は、(東)から(西)の方位へ流れています。

ポイント 等高線の間がせまいと、しゃ面は急になっています。等高線の間が広いと、しゃ面はゆるやかになっています。

2 A地点から神社までの道と、A地点からB地点までの道では、どちらの方が急な坂道になっていますか。その理由も書きましょう。

A 地点から (神社)までの道	(理由)
	A 地点から神社までの方が、等高線の間がせまくなっているから。