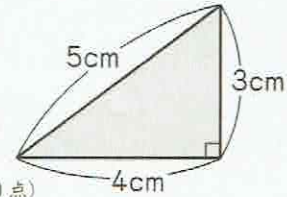


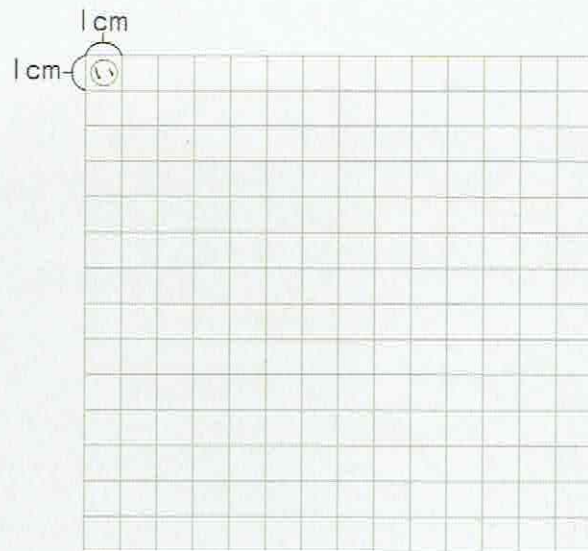
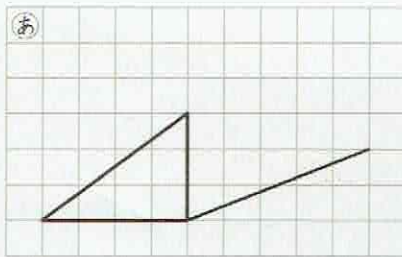
| 角柱と円柱 2-① |    | 月 | 日 |
|-----------|----|---|---|
| 組         | 名前 |   | 点 |

- ① 底面が右のような三角形で、高さが6cmの三角柱があります。

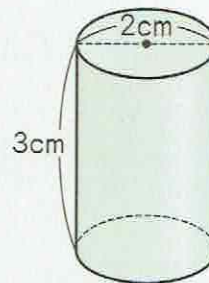


教科書 p.223

- ① 下の㉑に見取図のつづきをかきましょう。(20点)
- ② 下の㉒に展開図をかきましょう。(40点)



- ② 右のような円柱の展開図をかきましょう。(40点)



教科書 p.224

