

# 学校のまわりの様子

3年 組 名前( )

【めあて】 わたしたちのまちの土地はどのような様子なのだろう。

今日は資料として、町の土地の高さをあらわした地形図をもってきたよ。この地形図をつかってしらべていこう！

□ 資料 松丘小学校の土地の高さの様子



★色がこくなるほど、土地が高いことをあらわしているよ。



①松丘小学校の土地の高さは約何メートルかな？  
※地図中の数字にちゅう目してみよう。

②馬じ公えんはまちの中で土地が高いのかな？それともひくいのか？

③松丘小学校とさくら新町えきでは、どちらの土地が高いのかな？

④じゃぐざれ川はどちらからどちらへながれているかな？  
四方位をつかって答えよう。

★ヒント：水は高い方からひくい方へながれるね。

まとめ しらべたことをもとに、( )に入る言葉を考えてみよう。

わたしたちのまちの土地は、( ) がわや ( )  
がわの土地が高くなっています。

また、西から東にいくにつれて、土地が ( ) <  
なっています。

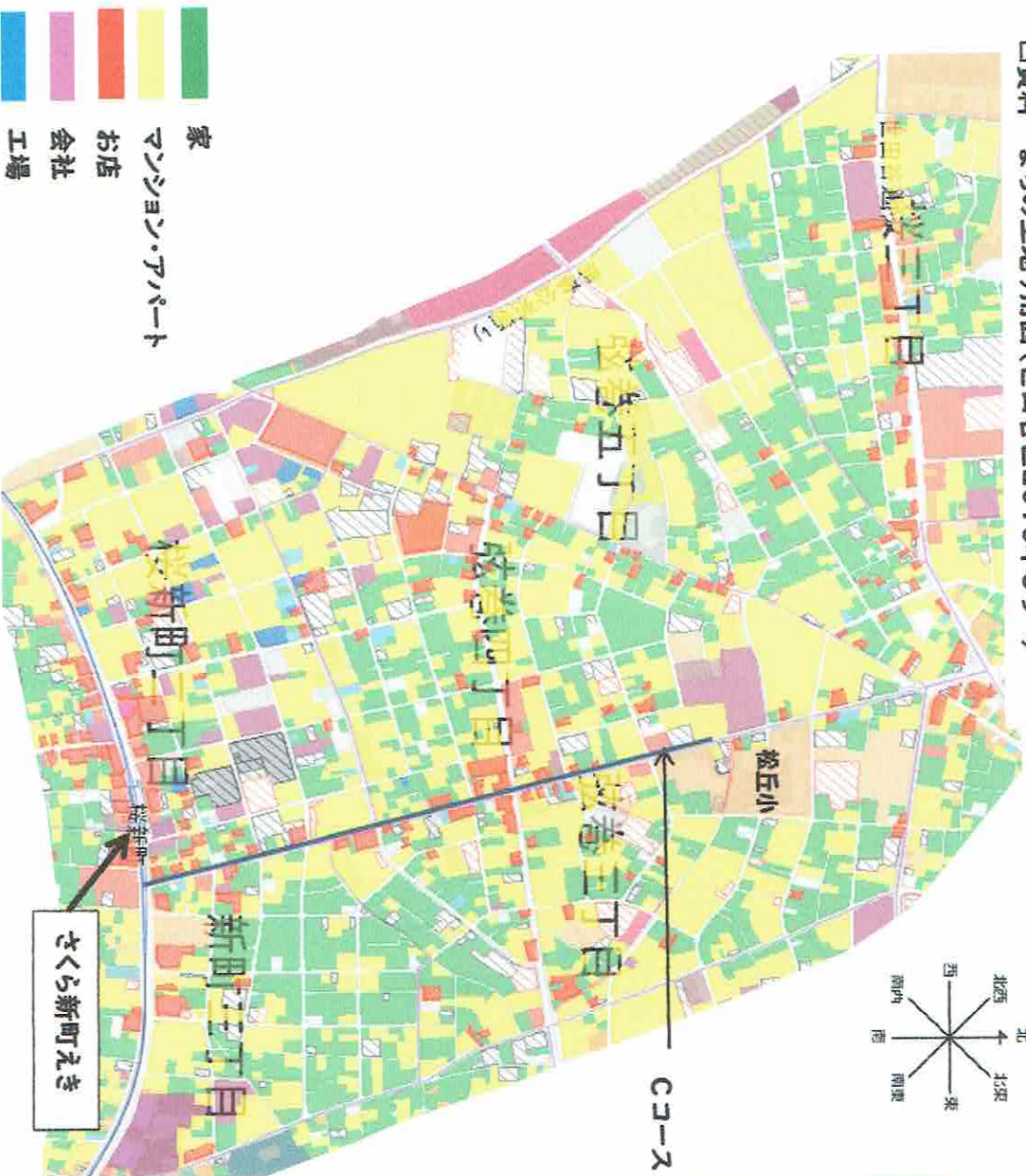


【めあて】わたしたちのまちの土地のつかわれ方はどのような様子なのだろう。

今日は資料として、町の土地利用図りようずをもってきたよ。この資料を使ってしらべていこう！



□資料 まちの土地利用図(世田谷区2016年しらべ)



①まちで一番多い土地のつかわれ方は何かな？

[ ]

②Cコースの通りぞいに多い土地のつかわれ方は何かな？

[ ]

③さくら新町えきのまわりに多い土地のつかわれ方は何かな？

[ ]

**まとめ** しらべたことをもとに、( )に入る言葉を考えてみよう。

わたしたちのまちで多い土地のつかわれ方は、( )やマンション・アパートです。Cコース通りぞいや( )のまわりは( )が多いです。



# 学校のまわりの様子

3年 組 名前( )

【めあて】わたしたちのまちの土地のつかわれ方はどのような様子なのだろう。

今日は資料として、まちの地図をもってきたよ。この資料を使ってしらべていこう！



□資料 わたしたちのまちの地図(赤丸は、バス停の場所をあらわしているよ。)



弦巻営業所から  
出発する東急  
バスの行き先。  
・渋谷駅 (渋谷区)  
・目黒駅 (品川区)

桜新町駅から出発する東急  
バスの行き先。  
・成城学園前駅 (世田谷区)  
・都立大学駅 (目黒区)  
・目黒駅 (品川区)

桜新町駅から出発する東急田園都市線にの  
ると行けるおもな場所。  
・二子玉川駅 (世田谷区)  
・渋谷駅 (渋谷区)  
・中央林間駅 (神奈川県)

せくら新町えき

①わたしたちのまちにはどんな交通機関(乗り物)がありますか？

②桜新町駅は松丘小のどちらがわにあるでしょうか？  
方位で答えよう。

③バス停はどんな場所にありますか？あてはまるもの全てに○をつけよう。

広い道      えきのちかく      家が多いところ

④まちから交通機関を使うと、どんな場所に行けますか？  
あてはまるもの全てに○をつけよう。  
★ヒント：3つのふき出しにちゅう目してみよう。

となりの家      世田谷区のほかの町      渋谷駅  
 神奈川県      成城学園前駅

まとめ      調べたことをもとに、( )に入る言葉を  
 考えてみよう。

わたしたちのまちには( )や( )などの  
 交通機関があります。わたしたちのまちは、交通機関に  
 よって、他の県や世田谷区のほかの( )ともつ  
 ながっています。



学校のまわりの様子

3年 組 名前( )

答え

【めあて】わたしたちのまちの土地はどのような様子なのだろう。

今日は資料として、町の土地の高さをあらわした地形図をもってきたよ。この地形図をつかってしらべていこう！

□ 資料 松丘小学校の土地の高さの様子



★色がこくなるほど、土地が高いことをあらわしているよ。

①松丘小学校の土地の高さは約何メートルかな？  
※地図中の数字にちゅう目してみよう。

約 38m

②馬じ公えんはまちの中で土地が高いのかな？それともひくいのかな？

高い

③松丘小学校とさくら新町えきでは、どちらの土地が高いのかな？

さくら新町えき

④じゃぐずれ川はどちらからどちらへながれているかな？

四方位をつかって答えよう。

西から東

★ヒント：水は高い方からひくい方へながれるね。

まとめ しらべたことをもとに、( )に入る言葉を考えてみよう。

わたしたちのまちの土地は、(西)がわや(南)がわの土地が高くなっています。

また、西から東にいくにつれて、土地が(ひく)くなっています。



学校のまわりの様子

3年組 名前( )

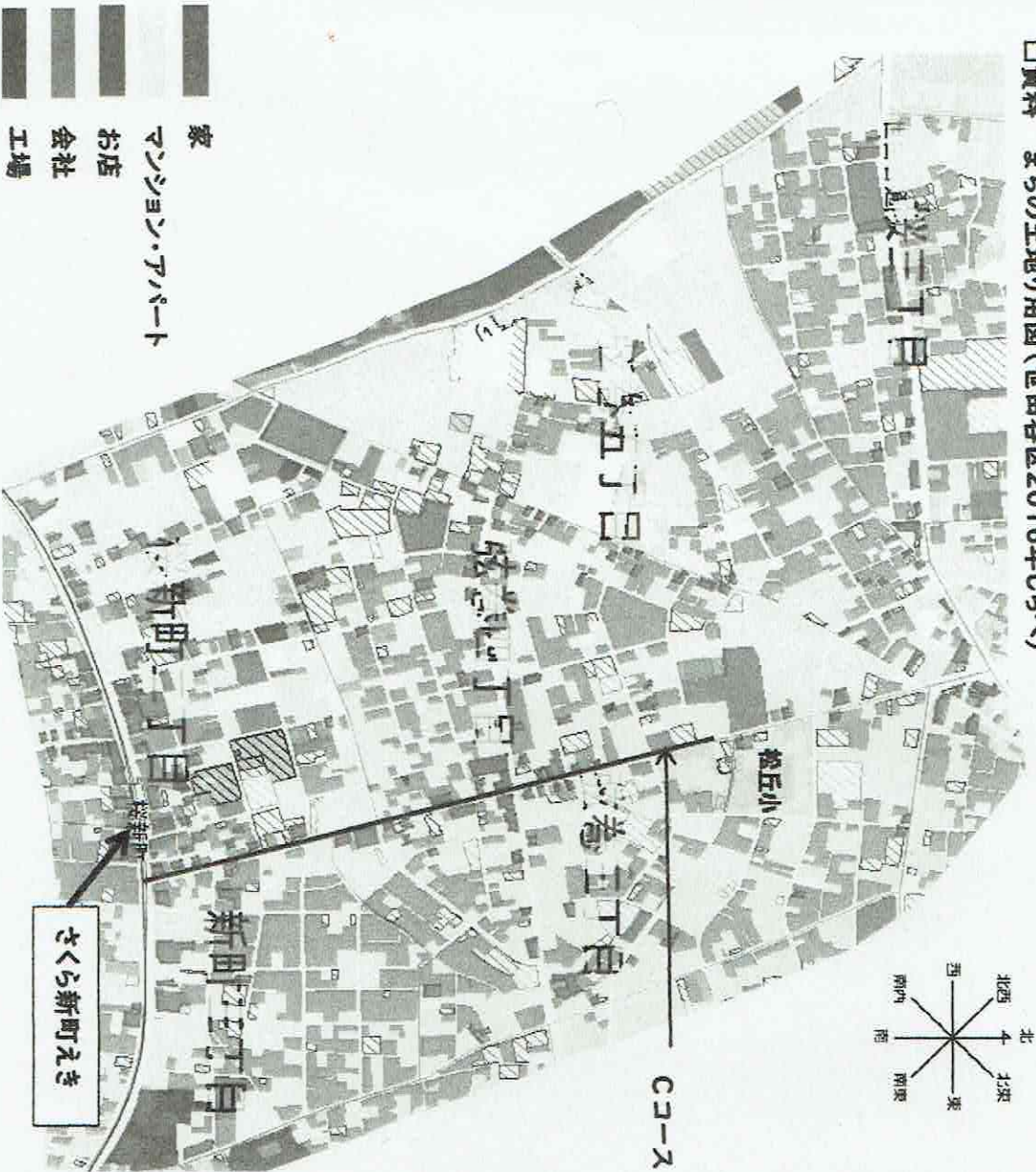
答え

【めあて】わたしたちのまちの土地のつかわれ方はどのような様子なのだろう。

今日は資料として、町の土地利用図をもってきたよ。この資料を使ってしらべていこう！



□資料 まちの土地利用図(世田谷区2016年しらべ)



①まちで一番多い土地のつかわれ方は何かな？

家、マンション・アパート

②Cコースの通りぞいに多い土地のつかわれ方は何かな？

お店、マンション・アパート

③さくら新町えきのまわりに多い土地のつかわれ方は何かな？

お店

【まとめ】しらべたことをもとに、( )に入る言葉を考えてみよう。

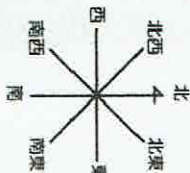
わたしたちのまちで多い土地のつかわれ方は、(家)やマンション・アパートです。Cコース通りぞいや(えき)のまわりは(お店)が多いです。



【めあて】わたしたちのまちの土地のつかわれ方はどのような様子なのだろう。

今日は資料として、まちの地図をもってきたよ。この資料を使ってしらべていこう！

資料 わたしたちのまちの地図(赤丸は、バスでいい場所をあらわしているよ。)



弦巻営業所から出発する東急バスの行き先。  
・渋谷駅 (渋谷区)  
・目黒駅 (品川区)

桜新町駅から出発する東急バスの行き先。  
・成城学園前駅 (世田谷区)  
・都立大学駅 (目黒区)  
・目黒駅 (品川区)

桜新町駅から出発する東急田園都市線にのると行けるおちな場所。  
・二子玉川駅 (世田谷区)  
・渋谷駅 (渋谷区)  
・中央林間駅 (神奈川県)



①わたしたちのまちにはどんな交通機関(乗り物)がありますか？

② 桜新町駅は松丘小のどちらがわにあるでしょう？

南がわ (南でもよい)

③バス停はどんな場所にありますか？あてはまるもの全てにつけよう。

広い道      えきのちかく      家が多いところ

④まちから交通機関を使うと、どんな場所に行けますか？あてはまるもの全てに○をつけよう。  
★ヒント：3つのふき出しにちゅう目してみよう。

となりの家      世田谷区のほかの町      渋谷駅  
神奈川県      成城学園前駅

まとめ 調べたことをもとに、( )に入る言葉を考えてみよう。

わたしたちのまちには( **7つ道** )や( **バス** )などの交通機関があります。わたしたちのまちは、交通機関によって、他の県や世田谷区のほかの( **まち** )ともつながっています。

答